

③ 国内旅行実務

第1問 以下の問1.～問15.の各設問について該当するものを、それぞれの選択肢から一つ選び、問16.～問18.の各設問について該当するものを、それぞれの選択肢からすべて選び、問19.～問20.の各設問について、下線部a.～d.のうち、誤っているものを一つ選び、解答用紙にマークしなさい。(地名については、都道府県等の公式ホームページ、百科事典等を参考としている。) (配点 2点×20)

問1. 次の記述のうち、誤っているものはどれか。

- a. 網走市の天都山からは、網走湖や知床半島などを見ることができる。
- b. 白老町には、アイヌ文化の伝承などを目的としたポロトコタンがある。
- c. 桜の名所として知られる史跡松前城を含む公園は、松前藩の城下町であった松前町にある。
- d. 稚内市にある積丹岬からは、利尻富士や礼文島などを見ることができる。

問2. 北海道の湖に関する次の記述のうち、誤っているものはどれか。

- a. 面積が北海道最大の屈斜路湖は、沈む夕日が美しいことで知られ網走国定公園に属している。
- b. 北海道東部にある阿寒湖は、特別天然記念物マリモの生息地として知られている。
- c. 北海道東部、根室半島の基部にある風蓮湖は、白鳥の飛来地として知られている。
- d. 千歳市西部にある支笏湖は、日本最北の不凍湖として知られている。

問3. 次の記述のうち、誤っているものはどれか。

- a. 山形市にある山寺（立石寺）では、50年に一度の御本尊薬師如来の御開帳が行われている。
- b. 広島市にある千光寺では、33年に一度の御本尊千手観世音菩薩の御開帳が行われている。
- c. 出雲市にある出雲大社では、60年に一度の御遷宮で本年5月に本殿遷座祭が行われ、平成の大遷宮の奉祝行事が行われている。
- d. 伊勢市にある伊勢神宮では、20年に一度の式年遷宮が行われている。

問4. 東京都の観光地等に関する次の記述のうち、誤っているものはどれか。

- a. 新橋駅から豊洲駅間を走る新交通 ゆりかもめの沿線には、お台場海浜公園や江戸東京博物館がある。
- b. 東京ミッドタウンは、ホテル、美術館、商業店舗、公園などが集約された広大なグリーンと6つの建物からなる複合都市である。
- c. サンシャインシティは、商業施設、展望台や水族館などのアミューズメント施設、劇場、博物館などの文化施設、ホテルなどが一体となった施設である。
- d. 葛西臨海水族園には、世界で初めてクロマグロの群泳が見られる大水槽がある。

問5. 岐阜県の観光地等に関する次の記述のうち、誤っているものはどれか。

- a. 高山市にある飛騨民俗村 飛騨の里は、合掌造りをはじめとした飛騨の民家が移築復元された集落博物館である。
- b. 白川村にある野外博物館 合掌造り民家園では、25棟の合掌造りをはじめ、神社やお寺の本堂、水車小屋などを見ることができる。
- c. 金華山山頂にある岐阜城は、かつて織田信長が天下統一の志をかかげたところである。
- d. 中山道にある妻籠宿は、木曾路の11宿のうちで最南端に位置し、文豪島崎藤村の出生地である。

問6. 広島県の観光地等に関する次の記述のうち、誤っているものはどれか。

- a. 瀬戸内しまなみ海道上にある因島は、村上水軍の本拠地のひとつで、復元された因島水軍城には武具や古文書が展示されている。
- b. 厳島神社のある宮島には、あなご飯やもみじ饅頭などの名物がある。
- c. 安芸の小京都と呼ばれる三次市の町並み保存地区では、江戸時代から明治、大正、昭和とそれぞれの時代の建築物の歴史の変遷を見ることができる。
- d. 広島藩浅野家の別邸であった縮景園は、中国杭州の西湖を模したものと伝えられている。

問7. 宮城県南部、蔵王山東麓にある は蔵王観光の拠点のひとつで、付近にある蔵王エコーラインから蔵王ハイラインを利用すると、エメラルドグリーンの水をたたえた円型の火口湖 御釜を見ることができる。

- a. 銀山温泉
- b. 作並温泉
- c. 遠刈田温泉
- d. 鳴子温泉

問8. 大阪の天神祭、東京の神田祭とともに日本三大祭のひとつといわれる は、京都東山の八坂神社の祭礼で、祭事は1ヶ月にわたるが、祭りのハイライトは7月17日に行われる山鉾巡行である。

- a. 葵祭
- b. 祇園祭
- c. 時代祭
- d. 三船祭

問9. 鳥取県の北東部にあり、日本海の荒波によって形作られた海食地形の では、菜種五島、千貫松島、鴨ヶ磯、竜神洞などの海岸美を見ることができる。

- a. 浦富海岸 b. 青海島 c. 白兔海岸 d. 国賀海岸

問10. 香川県琴平町にある旧金毘羅大芝居 は、国の重要文化財に指定された現存する日本最古の芝居小屋で、四国こんぴら歌舞伎大芝居が開催されている。

- a. 内子座 b. 金丸座 c. 康楽館 d. 八千代座

問11. 大分県北東部の には、国宝の富貴寺大堂、国の重要文化財の仏像9体が保管されている真木大堂、国の重要文化財である熊野磨崖仏のほか、石造宝塔など仏教文化の重要な遺跡が多く遺されている。

- a. 国東半島 b. 佐賀関半島 c. 島原半島 d. 西彼杵半島

問12. 鹿児島県佐多岬の南方約60km海上にある屋久島の著名な屋久杉のうち、 は車道沿いにあるため、登山せずに見ることができる。

- a. 紀元杉 b. 縄文杉 c. 大王杉 d. 夫婦杉

問13. 本年3月に新石垣空港が開港した石垣島から高速艇で約10分の周囲約9kmの小島 は、サンゴ石積みの石垣囲いと赤瓦屋根の民家が続き、沖縄の代表的民謡 安里屋ユンタの発祥地としても知られている。

- a. 竹富島 b. 波照間島 c. 由布島 d. 与那国島

問14. 本年6月に富士山が世界文化遺産として登録され、その範囲は静岡県と山梨県の広い範囲に及んでいるが、次のうち「富士山—信仰の対象と芸術の源泉」として登録されていないものはどれか。

- a. 忍野八海 b. 河口湖 c. 日本平 d. 三保の松原

問15. 次の寺社のうち、世界文化遺産「古都奈良の文化財」として登録されていないものはどれか。

- a. 春日大社 b. 興福寺 c. 東大寺 d. 法隆寺

問16. 次の組合せのうち、温泉地と観光地等が同じ都道府県にある組合せをすべて選びなさい。

- a. 湯西川温泉 - 袋田の滝
- b. 弥彦温泉 - 尖閣湾
- c. 野沢温泉 - 諏訪湖

問17. 次の組合せのうち、温泉地と祭り等が同じ都道府県にある組合せをすべて選びなさい。

- a. 和倉温泉 - 金沢百万石まつり
- b. 下呂温泉 - 郡上おどり
- c. 修善寺温泉 - 黒船祭

問18. 次の組合せのうち、温泉地と観光地等が同じ都道府県にある組合せをすべて選びなさい。

- a. 道後温泉 - 松山城
- b. 皆生温泉 - 瑠璃光寺五重塔
- c. 雲仙温泉 - グラバー園

問19. NHK 大河ドラマ 八重の桜の舞台となっている会津若松市には、白虎隊の自刃の地 a. 飯盛山、戊辰戦争で激しい攻防に耐えた b. 鶴ヶ城、会津藩家老の屋敷や陣屋などが軒を連ねる野外博物館 c. 会津武家屋敷、歴代藩主が愛した庭園 d. 盛美園などの見どころや歴史的遺産がある。

問20. 那覇市内にある世界文化遺産には、琉球王家の別邸で中国の皇帝の使者である冊封使の接待などに利用された a. 識名園、15世紀から約500年にわたり琉球王国の居城であった b. 首里城跡、第二尚氏王統の歴代陵墓で守礼の門の西にある c. 玉陵、国王が往路帰路の安泰を祈願した石造の平唐破風門 d. 斎場御嶽がある。

第2問 国内航空に関する以下の問21.～問22.の各設問について該当するものを、それぞれの選択肢から一つ選び、問23.の設問について該当するものを、選択肢からすべて選び、解答用紙にマークしなさい。(配点 5点×3)

問21. 日本航空の「往復割引」に関する次の記述のうち、正しいものはどれか。

- a. 「往復割引」には、大人と小児の区分があり、小児は大人の半額である。
- b. 「往復割引」は、7日間以内に限り同一路線を往復する場合に適用される。
- c. 「往復割引」は、すべての路線で通年利用することができる。
- d. 「往復割引」は、予約便を変更することができる。

問22. 下記のeチケットお客様控に関する次の記述のうち、誤っているものはどれか。

ANA e チケットお客様控 <small>ANA TICKET ISSUANCE NOTICE</small>		ANA
ジャタ イチロウ様		合計運賃額 ¥25,300
1. 7月20日 ANA 703便 9:35発 座席 SEAT 15F		<small>FARE/CHARGE (TAX INCL)</small>
名古屋/中部⇄札幌/千歳 予約番号 141		確認番号 688 881 543
<small>NAGOYA/CHUBU-SAPPORO/CHITOSE</small> 旅割 55		<small>RECEPTION NO.</small>
♪スキップ♪		♪スキップ♪と表示がある便は 直接保安検査場へお越し下さい なお予約変更によりスキップ できない場合があります 航空券有効期限 1.2013年 7月20日
<small>発行日 13-05-20</small>		

※合計運賃額には中部国際空港の旅客施設使用料 300 円が含まれている。

- a. 搭乗日当日、出発空港において予約便より前の便に空席がある場合でも予約便を変更することはできない。
- b. 搭乗日当日、出発空港において搭乗便にプレミアムクラスの空席がある場合、加算額を支払うことによりプレミアムクラスに変更することができる。
- c. 取消手数料は、取消日にかかわらず 25,300 円×50% = 12,650 円である。
- d. 予約便を7月10日に取り消した場合、払い戻しができるのは7月30日までである。

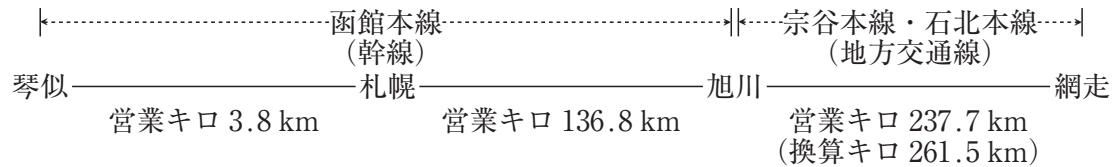
問23. 全日空の小児の取り扱いに関する次の記述のうち、正しいものをすべて選びなさい。

- a. 満6歳の幼稚園児が大人に同伴される場合であっても、無賃で搭乗することはできない。
- b. 小児運賃を適用した航空券の取消手数料は、大人と同額である。
- c. 大人1名につき3歳未満の幼児は2名まで同伴できるが、幼児のうち1名は小児運賃などの航空券を購入しなければならない。

第3問 旅客鉄道（JR）に関する以下の問24.～問30.の各設問について該当するものを、それぞれの選択肢から一つ選び、問31.～問32.の各設問について該当するものを、それぞれの選択肢からすべて選び、解答用紙にマークしなさい。（配点 5点×9）

問24. 以下の行程を大人1人が、途中下車しないで乗車する場合、大人片道普通旅客運賃は次のうちどれか。

〔行程〕



※琴似は札幌市内に属する駅で、札幌市内の中心駅は札幌である。

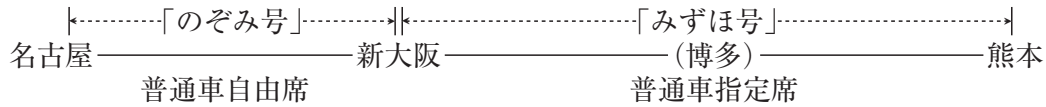
【JR 北海道の幹線の普通運賃表】（抜粋）

営業キロ（運賃計算キロ）	片道普通運賃
361～380 km	6,400 円
381～400 km	6,610 円
401～420 km	6,930 円

- a. $136.8 \text{ km} + 237.7 \text{ km} = 374.5 \text{ km}$ 6,400 円
- b. $3.8 \text{ km} + 136.8 \text{ km} + 237.7 \text{ km} = 378.3 \text{ km}$ 6,400 円
- c. $136.8 \text{ km} + 261.5 \text{ km} = 398.3 \text{ km}$ 6,610 円
- d. $3.8 \text{ km} + 136.8 \text{ km} + 261.5 \text{ km} = 402.1 \text{ km}$ 6,930 円

問25. 以下の行程を大人1人が、通常期に新幹線の改札口を出ないで乗り継ぐ場合、特急料金は次のうちどれか。

〔行程〕



【東海道・山陽新幹線「ひかり・こだま号」指定席特急料金（通常期）】（抜粋）

名古屋		
2,920円	新大阪	
6,710円	5,240円	博多

【東海道・山陽新幹線「のぞみ号」指定席特急料金（通常期）】（抜粋）

名古屋	
3,120円	新大阪
7,210円	博多

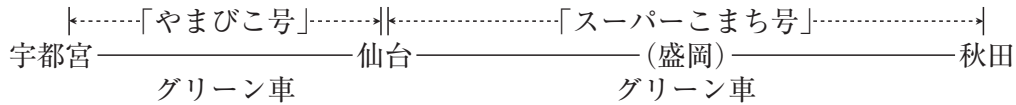
【山陽・九州新幹線「みずほ号」指定席特急料金（通常期）】（抜粋）

新大阪		
5,540円	博多	
7,950円	2,920円	熊本

- a. $(6,710円 - 510円) + (5,540円 - 5,240円) + 2,920円$ 9,420円
- b. $6,710円 + (5,540円 - 5,240円) + 2,920円$ 9,930円
- c. $7,210円 + 2,920円$ 10,130円
- d. $(3,120円 - 510円) + 7,950円$ 10,560円

問26. 以下の行程を大人1人が、通常期に新幹線の改札口を出ないで乗り継ぐ場合、特急料金は次のうちどれか。

[行程]



【東北新幹線「やまびこ号」指定席特急料金（通常期）】（抜粋）

宇都宮		
3,880円	仙台	
5,130円	3,030円	盛岡

【東北新幹線「スーパーこまち号」指定席特急料金（通常期）】（抜粋）

仙台	
3,230円	盛岡

【東北新幹線にまたがって乗車する場合の田沢湖線・奥羽本線の指定席特急料金（通常期）】（抜粋）

※盛岡～秋田間の営業キロは127.3 kmである。

営業キロ	101 km
特急料金	～150 km まで
指定席特急料金	1,600円

a. $5,130円 + (3,230円 - 3,030円) - 510円 = 4,820円$ ①
 $1,600円 - 510円 = 1,090円$ ②

① + ② =

5,910円

b. $5,130円 + (3,230円 - 3,030円) - 510円 = 4,820円$ ①
 $1,600円 - 360円 = 1,240円$ ②

① + ② =

6,060円

c. $(3,880円 - 510円) + (3,230円 - 510円) = 6,090円$ ①
 $1,600円 - 510円 = 1,090円$ ②

① + ② =

7,180円

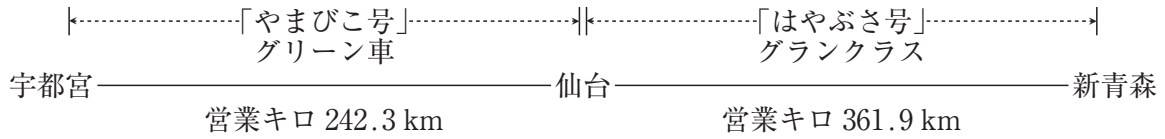
d. $(3,880円 - 510円) + (3,230円 - 510円) = 6,090円$ ①
 $1,600円 - 360円 = 1,240円$ ②

① + ② =

7,330円

問27. 以下の行程を大人1人が、通常期に新幹線の改札口を出ないで乗り継ぐ場合、特急料金及びグリーン料金・グランクラス料金の合計額は次のうちどれか。

〔行程〕



※宇都宮～新青森の営業キロは604.2 kmである。

【東北新幹線「やまびこ号」指定席特急料金（通常期）】（抜粋）

宇都宮		
3,880円	仙台	
5,800円	4,610円	新青森

【東北新幹線「はやぶさ号」指定席特急料金（通常期）】（抜粋）

仙台	
4,810円	新青森

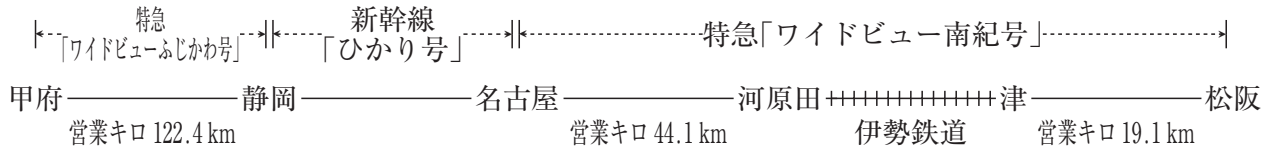
【JR東日本内のグリーン料金・はやぶさ号のグランクラス料金】（抜粋）

営業キロ	300 km まで	400 km まで	700 km まで
グリーン料金	3,000円	4,000円	4,000円
グランクラス料金	8,000円	9,000円	9,000円

- a. 特急料金 5,800円 + (4,810円 - 4,610円) - 510円 = 5,490円 ①
 グリーン料金・グランクラス料金 4,000円 + (9,000円 - 4,000円) = 9,000円 ②
 ① + ② = 14,490円
- b. 特急料金 (3,880円 - 510円) + (4,810円 - 510円) = 7,670円 ①
 グリーン料金・グランクラス料金 4,000円 + (9,000円 - 4,000円) = 9,000円 ②
 ① + ② = 16,670円
- c. 特急料金 5,800円 + (4,810円 - 4,610円) - 510円 = 5,490円 ①
 グリーン料金・グランクラス料金 3,000円 + 9,000円 = 12,000円 ②
 ① + ② = 17,490円
- d. 特急料金 (3,880円 - 510円) + (4,810円 - 510円) = 7,670円 ①
 グリーン料金・グランクラス料金 3,000円 + 9,000円 = 12,000円 ②
 ① + ② = 19,670円

問28. 以下の行程を大人1人が、通常期に普通車指定席を利用して当日中に乗り継ぐ場合、特急料金は次のうちどれか。

[行程]



※伊勢鉄道は、JR の各駅と通過連絡運輸の取り扱いを行っている。

※名古屋～河原田間と津～松阪間の通算の営業キロは 63.2 km である。

【JR 東海の在来線の指定席 A 特急料金 (通常期)】 (抜粋)

50 km まで	100 km まで	150 km まで
1,240 円	1,660 円	2,290 円

【東海道・山陽新幹線「ひかり号」の指定席特急料金】 (通常期)】 (抜粋)

静岡	
2,920 円	名古屋

【伊勢鉄道の特急料金】

区間	特急料金
河原田～津	310 円

a. $2,290 \text{ 円} \div 2 = 1,145 \text{ 円} \rightarrow 1,140 \text{ 円}$

$1,660 \text{ 円} \div 2 = 830 \text{ 円}$

$1,140 \text{ 円} + 2,920 \text{ 円} + 830 \text{ 円} + 310 \text{ 円}$

5,200 円

b. $2,290 \text{ 円} \div 2 = 1,145 \text{ 円} \rightarrow 1,140 \text{ 円}$

$1,140 \text{ 円} + 2,920 \text{ 円} + 1,660 \text{ 円} + 310 \text{ 円}$

6,030 円

c. $(1,660 \text{ 円} + 310 \text{ 円}) \div 2 = 985 \text{ 円} \rightarrow 980 \text{ 円}$

$2,290 \text{ 円} + 2,920 \text{ 円} + 980 \text{ 円}$

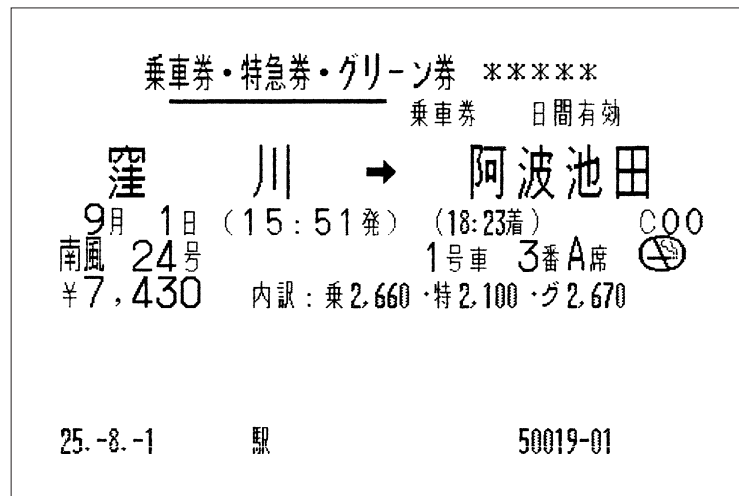
6,190 円

d. $1,660 \text{ 円} \div 2 = 830 \text{ 円}$

$2,290 \text{ 円} + 2,920 \text{ 円} + 830 \text{ 円} + 310 \text{ 円}$

6,350 円

問29. 次の JR 券を乗車日の前日に払いもどした場合、払いもどし額で正しいものはどれか。



- a. $7,430 \text{ 円} \times 0.3 = 2,229 \text{ 円} \rightarrow 2,220 \text{ 円}$
 $7,430 \text{ 円} - 2,220 \text{ 円}$ 5,210 円
- b. $(2,100 \text{ 円} + 2,670 \text{ 円}) \times 0.3 = 1,431 \text{ 円} \rightarrow 1,430 \text{ 円}$
 $7,430 \text{ 円} - 210 \text{ 円} - 1,430 \text{ 円}$ 5,790 円
- c. $2,670 \text{ 円} \times 0.3 = 801 \text{ 円} \rightarrow 800 \text{ 円}$
 $7,430 \text{ 円} - 210 \text{ 円} - 800 \text{ 円}$ 6,420 円
- d. $2,100 \text{ 円} \times 0.3 = 630 \text{ 円}$
 $7,430 \text{ 円} - 210 \text{ 円} - 630 \text{ 円}$ 6,590 円

問30. 乗車券類の取り扱いに関する次の記述のうち、正しいものはどれか。

- a. 函館・宗谷本線の札幌～稚内間（営業キロ 396.2 km、運賃計算キロ 422.1 km）の片道乗車券は、3日間の有効期間がある。
- b. 大阪近郊区間内相互発着となる大阪～彦根間（営業キロ 104.5 km）の片道乗車券は、2日間の有効期間がある。
- c. 自由席特急券は、営業キロが 100 km までは 1 日、100 km を超えるときは 2 日間の有効期間がある。
- d. 普通回数乗車券は、1 カ月間以内に限り有効である。

問31. 次の行程を当日中に乗り継ぐ場合、下線を付した列車に乗継割引が適用されるものをすべて選びなさい。

- a. 松本 — 特急「ワイドビューしなの号」 — 長野 — 新幹線「あさま号」 — 高崎
- b. 名古屋 — 新幹線「のぞみ号」 — 品川 — 特急「成田エクスプレス号」 — 成田空港
- c. 秋田 — 特急「つがる号」 — 青森 — 特急「スーパー白鳥号」 — 函館
- d. 新大阪 — 新幹線「のぞみ号」 — 博多 — 特急「かもめ号」 — 長崎

問32. 交通新聞社発行 JR 時刻表（抜粋）に関する次の記述のうち、正しいものをすべて選びなさい。

- a. 特急「あかぎ5号」には、普通車指定席はない。
- b. 特急「あかぎ7号」は、新宿始発前橋行きで、上野駅は経由しない。
- c. 快速「アーバン号」には、グリーン車自由席がある。
- d. 寝台特急「あけぼの号」には、2段式B寝台がある。

交通新聞社発行 JR 時刻表 (2013年6月号より抜粋)



高崎線・上越線(上野—高崎—水上)(その5)

列車番号		4005M	2800E	971M		4007M	971M	2021		2800E	2810E	3947M	3947M	973M	4009M	757M	973M	975M
列車名	【土曜・休日運休】	特急 あかぎ 5号	快速		◆ 【土曜・休日運転】	特急 あかぎ 7号		特急 あけぼの		快速	快速	快速	通快		特急 あかぎ 9号	【土曜・休日運休】		
前の掲載頁			157							159	157							
始発	国府津 1933	..	◆ 【土曜・休日運転】	小田原 1942	小田原 1942
入線時刻		2045 (16)	↓	2043 (6)		2049 (5)	2059 (13)			↓	↓	2108 (6)	2107 (6)	2118 (5)			2118 (5)	2130 (7)
上尾赤浦 さいたま新 大宮上北 桶北 北吹行 熊谷 籠深岡本 神新倉 高崎 前橋 新前橋 八木 久	◆ 【土曜・休日運転】	2100 ↓ 2108 2117 2123 2124 2130 2134 2150 2150 2159 2206 2213 2222 2223 2231 2232 2236 (以下 584頁)	2110 2119 2125 2126 2131 2138 2141 2145 2149 2153 2157 2200 2205 2211 2213 2222 2223 2231 2232 2236 (以下 584頁)	2101 2107 2111 2120 2124 2128 2133 2137 2140 2148 2152 2200 2205 2218 2224 2228 2231 2237 2246 2254 2258 2307 2311 2317 2322 2327 2334 2337 2343 2349 000 006	◆ 【土曜・休日運転】	2134 2135 2142 2146 2201 2217 2231 2232 2239 2241 2245 (以下 584頁)	2116 2114 2118 2127 2131 2140 2142 2146 2158 2202 2210 2213 2218 2224 2246 2248 2249 2254 2258 2307 2311 2317 2322 2327 2334 2337 2343 2349 000 006	◆ 【土曜・休日運転】	2126 2135 2142 2144 2149 2153 2156 2204 2209 2213 2218 2222 2225 2230 2234 2237 2241 2243 2247 2252 2253 2258 2303 2308 2309 2312 (以下 584頁)	2127 2136 2142 2149 2154 2200 2204 2213 2218 2226 2230 2234 2241 2247 2252 2256 2301 2305 2310 2312 (以下 584頁)	2123 2133 2142 2148 2153 2158 2202 2205 2211 2218 2222 2229 2234 2238 2243 2247 2252 2256 2301 2305 2310 2312 (以下 584頁)	2127 2133 2141 2150 2154 2158 2203 2208 2211 2214 2218 2222 2229 2234 2238 2243 2247 2252 2256 2301 2305 2310 2312 (以下 584頁)	◆ 【土曜・休日運転】	2135 2142 2149 2153 2158 2203 2208 2211 2214 2218 2222 2229 2234 2238 2243 2247 2252 2256 2301 2305 2310 2312 (以下 584頁)	◆ 【土曜・休日運転】	2137 2147 2152 2200 2205 2208 2213 2217 2220 2225 2228 2232 2235 2239 2242 2247 2250 2254 2258 2301 2306 2311 2316 2320 2324 2329 2334 2337 2343 2349 000 006	◆ 【土曜・休日運転】	2141 2147 2152 2200 2205 2208 2213 2217 2220 2225 2228 2232 2235 2239 2242 2247 2250 2254 2258 2301 2306 2311 2316 2320 2324 2329 2334 2337 2343 2349 000 006

④ 海外旅行実務

第1問 下記の適用条件に基づき、資料編を参照のうえ、以下の問1.～問5.の各設問について該当するものを、それぞれの選択肢から一つ選び、解答用紙にマークしなさい。

(配点 5点×5)

適用条件

- | 1. 旅程： | 出発時間 | 到着時間 |
|--------------------------------|----------------------|--------|
| TOKYO(NRT) – LONDON(LON) | 07OCT(月) NH201 1130 | 1600 |
| LONDON(LON) – DUBLIN(DUB) | 10OCT(木) BA836 1330 | 1445 |
| DUBLIN(DUB) – AMSTERDAM(AMS) | 12OCT(土) EI606 1130 | 1405 |
| AMSTERDAM(AMS) – ISTANBUL(IST) | 18OCT(金) KL1613 1125 | 1545 |
| ISTANBUL(IST) – PARIS(PAR) | 21OCT(月) AF1391 0615 | 0855 |
| PARIS(PAR) – TOKYO(NRT) | 24OCT(木) NH206 2000 | 1440+1 |
2. クラス・人員：エコノミークラス 大人1名
 3. 適用運賃： ANA エコノミークラス普通運賃
 4. 運賃・規則： 資料編参照
 5. 運賃計算上の折り返し地点：各設問に記載
 6. 各区分 TPM： TYO – 6214(TS) – LON – 293 – DUB – 467 – AMS – 1384 – IST – 1397
– PAR – 6194(TS) – TYO
 7. MPM： 資料編参照
 8. 航空券の予約完了日：2013年10月1日
 9. 航空券の発券と販売：日本
 10. その他： 運賃は本来 NUC 額にて算出するが、計算簡素化のため円貨額にて算出するものとする。

(参考) TPM の合計：

TYO – LON – DUB	6507
DUB – AMS – IST – PAR – TYO	9442
TYO – LON – DUB – AMS	6974
AMS – IST – PAR – TYO	8975

問1. この旅程において、DUB を折り返し地点とした場合、往路の運賃算出のための計算式はどれか。

- a. $760,000 \times 1/2$
- b. $820,000 \times 1/2$
- c. $860,000 \times 1/2$
- d. $920,000 \times 1/2$

問2. この旅程において、DUB を折り返し地点とした場合、復路の運賃算出のための計算式はどれか。

- a. $860,000 \times 1/2 \times 1.20$
- b. $860,000 \times 1/2 \times 1.25$
- c. $920,000 \times 1/2 \times 1.20$
- d. $920,000 \times 1/2 \times 1.25$

問3. この旅程において、AMS を折り返し地点とした場合、往路の運賃算出のための計算式はどれか。

- a. $760,000 \times 1/2$
- b. $820,000 \times 1/2$
- c. $860,000 \times 1/2$
- d. $920,000 \times 1/2$

問4. この旅程において、AMS を折り返し地点とした場合、復路の運賃算出のための計算式はどれか。

- a. $760,000 \times 1/2 \times 1.20$
- b. $760,000 \times 1/2 \times 1.25$
- c. $800,000 \times 1/2 \times 1.20$
- d. $800,000 \times 1/2 \times 1.25$

問5. AMS を折り返し地点とした旅程は周回旅行であるため、周回旅行の計算規則に従い CTM CHECK (Circle Trip Minimum Fare Check) を行わなければならないが、CTM (Circle Trip Minimum Fare) となる運賃はどれか。

- a. 760,000 (TYOAMS YXRTE)
- b. 820,000 (TYOAMS YWRTE)
- c. 860,000 (TYODUB YXRTE)
- d. 920,000 (TYODUB YWRTE)

- 第2問 下記の適用条件に基づき、資料編を参照のうえ、以下の問6.～問8.の各設問について該当するものを、それぞれの選択肢から一つ選び、解答用紙にマークしなさい。
- (配点 5点×3)

適用条件

- | | | | |
|---------------------------------|-------------------|------|--------|
| 1. 旅程： | | 出発時間 | 到着時間 |
| TOKYO(NRT) - SINGAPORE(SIN) | 05NOV(火) JL711 | 1755 | 0025+1 |
| SINGAPORE(SIN) - BANGALORE(BLR) | 06NOV(水) SQ502 | 2005 | 2155 |
| BANGALORE(BLR) - MUMBAI(BOM) | 07NOV(木) 他の運送機関利用 | | |
| MUMBAI(BOM) - DELHI(DEL) | 08NOV(金) AI605 | 2100 | 2300 |
| DELHI(DEL) - TOKYO(NRT) | 10NOV(日) JL740 | 2020 | 0720+1 |
2. クラス・人員： エコノミークラス 大人1名
3. 適用運賃： JAL 南アジア亜大陸行 ダイナミックセイバー5 タイプF 運賃
4. 運賃・規則： 資料編参照
5. 運賃計算上の折り返し地点と旅行形態：
往路の終点を BLR、復路の始点を BOM とするオープンジョー旅行
6. 各区分 TPM： TYO - 3312(EH) - SIN - 1975 - BLR - 519 - BOM - 708 - DEL
- 3656(EH) - TYO
7. MPM： TYO - BLR 5137(EH)
TYO - BOM 5041(EH)
8. 航空券の予約完了日： 2013年10月30日
9. 航空券の発券と販売：日本
10. その他： 運賃は本来 NUC 額にて算出するが、計算簡素化のため円貨額にて算出するものとする。
- (参考) TPM の合計：
- TYO - SIN - BLR 5287
- BOM - DEL - TYO 4364

問6. この旅程において、往路に適用する運賃はどれか。(途中降機料金が必要な場合は計算に含めること。)

- a. 40,000
- b. 42,000
- c. 50,000
- d. 52,500

問7. この旅程において、復路に適用する運賃はどれか。(途中降機料金が必要な場合は計算に含めること。)

- a. 35,000
- b. 45,000
- c. 50,000
- d. 60,000

問8. この航空券の予約完了日は10月30日であるが、航空券発券可能な最終日は何月何日か。

- a. 10月30日
- b. 10月31日
- c. 11月01日
- d. 11月02日

10月 October							11月 November						
日	月	火	水	木	金	土	日	月	火	水	木	金	土
		1	2	3	4	5						1	2
6	7	8	9	10	11	12	3	4	5	6	7	8	9
13	14	15	16	17	18	19	10	11	12	13	14	15	16
20	21	22	23	24	25	26	17	18	19	20	21	22	23
27	28	29	30	31			24	25	26	27	28	29	30

- 第3問 次の英文は、エーゲ海クルーズの船内新聞（抜粋）である。これを読み、問9.～問12.の各設問について該当するものを、それぞれの選択肢から一つ選び、解答用紙にマークしなさい。
(配点 5点×4)

Monday, 25th March, 2013

SHIPBOARD ACCOUNTS

Your boarding pass/charge card will be activated upon embarkation. Please register your credit card or leave a cash deposit at the Reception Desk by midnight. If you fail to register your credit card or leave a cash deposit, your onboard account will automatically be closed. The settlement of your onboard account will be made during the last day of the cruise.

Thursday, 28th March, 2013

SANTORINI

DISEMBARKATION AT SANTORINI WILL BE BY TENDER BOATS

Passengers participating in the excursions will disembark first. Others wishing to go ashore are kindly requested to collect a tender ticket at the Reception Desk between 1:00 pm and 2:00 pm. Announcements will be made over the P.A. system calling you to disembark by tender numbers. Non-tour passengers will start to disembark approximately 30 minutes after the tour participants and may wait in any of the public lounges or open decks.

- ※ Santorini・・・サントリーニ島
- ※ tender boat・・・小型船（はしけ船）
- ※ P.A. system・・・拡声装置（ここでは、船内放送）

SETTLEMENT OF ONBOARD ACCOUNTS

Passengers who registered their credit card will receive a printed statement delivered under the cabin door before arrival in Piraeus. Any discrepancies regarding your account statements may be settled at the Reception Desk before your final disembarkation from the ship.

Passengers who left a cash deposit are kindly requested to settle their account at the Reception Desk from 12:00 noon to 4:30 pm. Please note that no credit cards will be ① at this time. All cash accounts will be closed from noon. From this time onwards all drinks at the bars and restaurants and any additional services and purchases should be paid for in cash.

- ※ Piraeus・・・ピレウス港（クルーズの最終港）

問9. 次の記述から、英文の内容に合致しているものだけをすべて選んでいるものはどれか。

- (ア) 乗客は、クレジットカードを登録するか、又は保証金の預け入れをレセプションデスクでしなければならない。
- (イ) 乗客が、クレジットカードの登録、又は保証金の預け入れを定められた時間までにしなかった場合は、船内口座は自動的に閉鎖される。
- (ウ) 船内で利用した勘定の精算は、クルーズの最終日に行われる。

- a. (ア) (イ) b. (ア) (ウ) c. (イ) (ウ) d. (ア) (イ) (ウ)

問10. 次の記述から、英文の内容に合致しているものだけをすべて選んでいるものはどれか。

- (ア) サントリーニ島観光に参加しない乗客で、島に上陸を希望する者は、レセプションデスクで小型船のチケットを受け取る必要がある。
- (イ) サントリーニ島観光に参加しない乗客で、島に上陸を希望する者は、観光参加者の下船後おおよそ30分後に下船が始まる。
- (ウ) 小型船を利用する乗客は、各人の船室で船内放送による下船の案内を待っていなければならない。

- a. (ア) (イ) b. (ア) (ウ) c. (イ) (ウ) d. (ア) (イ) (ウ)

問11. 次の記述から、英文の内容に合致しているものだけをすべて選んでいるものはどれか。

- (ア) 乗船時にクレジットカードを登録した乗客には、ピレウス港到着前に船内で利用した明細書が乗客の船室のドアの下に届けられる。
- (イ) 乗船時に保証金を預け入れした乗客は、精算が始まる正午以降は、バーでの飲み物やレストランなどでの飲食等はクレジットカードのみでの支払いとなる。
- (ウ) 乗船時にクレジットカードを登録した乗客で、船内で利用した明細書に相違がある場合には、最後に下船するまでにレセプションデスクで解決することができる。

- a. (ア) (イ) b. (ア) (ウ) c. (イ) (ウ) d. (ア) (イ) (ウ)

問12. 本文中の ① に入る単語で、英文の内容から最も適切なものは、次のうちどれか。

- a. accepted b. charged c. closed d. paid

第4問 次の英文は、あるディナークルーズに関する団体予約の規定（抜粋）である。これを読み、問13.～問15.の各設問について該当するものを、それぞれの選択肢から一つ選び、問16.の設問について該当するものを、選択肢からすべて選び、解答用紙にマークしなさい。

(配点 5点×4)

Dinner Cruises for groups (parties of more than fifteen people)

Customers who book thirty days in advance may take up to seven days to put down the deposit, after which fifty per cent of the total price must be paid. In case of cancellation, the deposit is nonrefundable.

Customers who book less than thirty days in advance must pay fifty per cent of the total price as a deposit upon booking. In case of cancellation, the deposit is nonrefundable.

The fifty per cent must be paid at least seven days prior to departure, after which no cancellation is possible.

Parties must choose a set menu for the whole group at least seven days prior to departure. If they fail to do so, our Chef will decide a menu for the group.

Customers must inform us of the exact number of passengers three days prior to departure. This number cannot be decreased by more than ten per cent in order to get a refund.

Customers may be required to book earlier than usual for special occasions such as Valentine's Day, Mother's Day, and New Year's Eve. On such occasions, the total order amount must be paid upon booking and the amount will be nonrefundable.

問13. 次の記述から、英文の内容に合致するものだけをすべて選んでいるものはどれか。(特別な行事に該当する日は除く。)

(ア) 30名で予約したお客様が、出発日の3日前までに28名で確定した旨を連絡すれば、2名分の払い戻しを受けることができる。

(イ) お客様が出発日の30日前に予約をした場合、予約金は7日間の支払い猶予がある。

(ウ) お客様が出発日の20日前に団体予約の取り消しをしたとき、予約金は払い戻されない。

- a. (ア)(イ) b. (ア)(ウ) c. (イ)(ウ) d. (ア)(イ)(ウ)

問14. 次の記述から、英文の内容に合致するものだけをすべて選んでいるものはどれか。(特別な行事に該当する日は除く。)

(ア) お客様は出発日の7日前までにセットメニューを選択しなければならない。

(イ) 出発日の20日前に予約をしたときは、お客様は予約と同時に総額の50%を予約金として支払わなければならない。

(ウ) 出発日の7日前であれば、お客様はディナークルーズの実施日の変更ができる。

- a. (ア)(イ) b. (ア)(ウ) c. (イ)(ウ) d. (ア)(イ)(ウ)

問15. 本文中の ② に入る単語で、英文の内容から最も適切なものは、次のうちどれか。

- a. excess b. short c. surplus d. remaining

問16. 特別な行事に該当する日のディナークルーズの予約に関する次の記述のうち、英文の内容に合致するものをすべて選びなさい。

- a. お客様は通常よりも早く予約をする必要がある。
b. お客様は予約時に総額を支払わなければならない。
c. お客様が支払った総額は払い戻されない。

第5問 数次往復用一般旅券（以下、旅券という。）に関し、以下の問17.～問18.の各設問について該当するものを、それぞれの選択肢から一つ選び、以下の問19.～問20.について該当するものを、それぞれの選択肢からすべて選び、解答用紙にマークしなさい。（緊急に渡航する必要のある者及び戸籍に記載される前の者が旅券の発給を申請する場合を除く。）

（配点 5点×4）

問17. 次の記述から、正しいものだけをすべて選んでいるものはどれか。

- (ア) 旅券の発給を申請するに当たり、申請者が指定した者を通じて当該申請に係る書類及び写真を提出して申請しようとする場合には、申請書類等提出委任申出書1通の提出が必要となるが、申請者の指定した者が法定代理人であるときは、当該申出書の提出は不要である。
- (イ) 旅券の名義人が、有効期間が満了となった旅券を返納の上、旅券の発給を申請する場合、申請者の本籍の都道府県名に変更がなければ、戸籍謄本（抄本）の提出を省略することができる。
- (ウ) 一般旅券発給申請書の所持人自署欄への署名について、署名する能力のない乳児が発給申請者である場合、当該乳児の海外渡航に同行を予定している者は、当該乳児の記名を行うことができる。

- a. (ア)(イ) b. (ア)(ウ) c. (イ)(ウ) d. (ア)(イ)(ウ)

問18. 次の記述から、正しいものだけをすべて選んでいるものはどれか。

- (ア) 旅券の発給を申請するに当たり、20歳未満の既婚者にあつては、一般旅券発給申請書の法定代理人署名欄に法定代理人の署名は不要であるが、有効期間が5年の旅券を申請しなければならない。
- (イ) 旅券に記載される氏名は、ヘボン式ローマ字により表記されるが、申請者がその氏名についてヘボン式によらないローマ字表記を希望し、外務大臣又は領事官が、出生証明書等により当該表記が適当であり、かつ、渡航の便宜のため特に必要があると認めるときは、この限りではない。
- (ウ) 旅券の発給を申請するに当たり、提出する戸籍謄本（抄本）は、提出の日前6か月以内に作成されたものでなければならない。

- a. (ア)(イ) b. (ア)(ウ) c. (イ)(ウ) d. (ア)(イ)(ウ)

問19. 旅券の発給を申請するに当たり、住民票の写しに加え、都道府県知事が提示又は提出を求め
る書類で申請者の身元を確認するための書類として、充足されているものをすべて選びなさい。

- a. 平成 24 年 4 月 1 日以降に交付された運転経歴証明書を 1 点
- b. 健康保険の被保険者証と学生証で写真をはり付けたものを各 1 点
- c. 国民年金手帳を 1 点
- d. 一般旅券発給申請書に押印した印鑑に係る印鑑登録証明書と当該印鑑を各 1 点

問20. 旅券の名義人が、旅券の有効期間内に当該旅券を返納の上、新たに旅券の発給を申請するこ
とができるものをすべて選びなさい。

- a. 残存有効期間が 10 か月となったとき
- b. 残存有効期間が 3 年となった旅券の名義人の氏名が婚姻により変更となったとき
- c. 残存有効期間が 5 年となった旅券の査証欄に余白がなくなったとき
- d. 残存有効期間が 7 年となった旅券を著しく損傷したとき

第 6 問 以下の問 21.～問 22.の各設問について該当するものを、それぞれの選択肢から一つ選び、
以下の問 23.～問 24.の各設問について該当するものを、それぞれの選択肢からすべて選び、
解答用紙にマークしなさい。 (配点 5 点× 4)

問21. 20 歳以上の日本人旅行者の本邦の通関に関する次の記述のうち、正しいものはどれか。

- a. 海外市価が 1 万円のウイスキー(760 ml) 3 本と 3 万円のワイン (750 ml) 1 本を輸入する
場合、ワインに課税される。
- b. 海外市価が 20 万円の腕時計 1 個と 10 万円のハンドバッグ 1 個のみを輸入する場合、ハンド
バッグに課税される。
- c. 海外市価 16 万円の指輪が課税対象となる場合、簡易税率は適用されず一般の関税率が適用
される。
- d. 外国製紙巻タバコ 200 本と日本製紙巻タバコ 400 本を輸入する場合、海外市価にかかわらず
課税額は 4,400 円となる。

問22. 20歳以上の日本人旅行者の本邦の通関に関する次の記述のうち、誤っているものはどれか。

- a. 現在使用中の外国製の時計を持ち出す場合、入国時に課税されることがないようにするためには、外国製品の持出し届に品名、数量、銘柄、特徴などを記入し、出国の際に現品を提示の上、税関の確認印を受ける必要がある。
- b. 入国時に所定の申告をした別送品は、税関長がやむを得ない特別の事由があると認める場合を除き、入国後6か月以内に当該別送品の輸入手続をしなければならない。
- c. 海外市価が10万円のジャケット1着、8万円のバッグ1個、1本5千円のネクタイ3本、1枚4千円のスカーフ2枚のみを輸入する場合は課税対象となる。
- d. 海外市価3万円の香水（1個4分の1オンス）7個のみを輸入する場合は免税となる。

問23. 20歳以上の日本人旅行者が本邦入国時に携帯又は別送して輸入する次の物品のうち、輸入が禁止又は規制されているものをすべて選びなさい。

- a. 韓国で購入した真空パックの焼肉用カルビ
- b. フィリピンで購入したマンゴウのドライフルーツ
- c. 中国で購入した二胡（ニシキヘビの皮を使用した楽器）

問24. 本邦に在留する外国人（出入国の公正な管理のため再入国の許可を要する者として法務省令で定めるものに該当する者を除く。）のみなし再入国許可に関する次の記述のうち、正しいものをすべて選びなさい。

- a. 中長期在留者で有効な旅券を所持するものが、在留カードを提示して、法務省令で定めるところにより、入国審査官に対し、再び入国する意図を表明して出国するときは、再入国の許可を受けたものとみなされる。
- b. 中長期在留者が出国時に受けたものとみなされる再入国の許可の有効期間は、出国の日から1年（在留期間の満了の日が出国の日から1年を経過する日前に到来する場合には、在留期間の満了までの期間）である。
- c. 特別永住者が出国時に受けたものとみなされる再入国の許可の有効期間は、出国の日から2年である。

第7問 以下の問 25.～問 37.の各設問について該当するものを、それぞれの選択肢から一つ選び、問 38.の設問について該当するものを、選択肢からすべて選び、問 39.～問 44.の各設問について、下線部 a.～d.のうち、誤っているものを一つ選び、解答用紙にマークしなさい。(地名については各国の政府観光局等の公式ホームページ、百科事典等を参考としている。)

(配点 2点×20)

- 問25. ロンドンの南東にある は、イギリスで最初にキリスト教が伝えられた地で、イギリス国教会の総本山である大聖堂の内部にある礼拝堂は、12世紀に殉教したベケット大司教の物語などが描かれた美しいステンドグラスで知られている。
- a. エディンバラ b. カンタベリー c. ケンブリッジ d. グラスゴー
- 問26. ドイツ中部チューリンゲン州の都市 は、18世紀末から19世紀初頭にゲーテやシラーなどの文人や音楽家などが集まりドイツ古典主義文化が花開いた町で、ゲーテの家、シラーの家、リストの家などが遺されている。
- a. デュッセルドルフ b. ドレスデン c. フランクフルト d. ワイマール
- 問27. チューリッヒの南東にある には、女流作家ヨハンナ シュピーリの小説「ハイジ」の生活を伝えるハイジハウス（博物館）があり、台所、寝室、納屋など、物語の中に描かれていたとおりのアルプスの農民の暮らしが再現されている。
- a. ダボス b. バーゼル c. マイエンフェルト d. ルツェルン
- 問28. ポルトガルのリスボンにあるジェロニモス修道院は、エンリケ航海王子と同国の海外進出に大きな貢献を果たした の偉業をたたえて建設されたもので、内部は船や貝殻、胡椒などをモチーフとした装飾で飾られている。
- a. カブラル b. コロンブス c. バスコ ダ ガマ d. マゼラン
- 問29. ベルギーの西部に位置する は水の都として知られ、市内を縦横に流れる運河からの景観やベギン会修道院、グルーニング美術館、メモリンク美術館など多くの歴史的建造物のある町並みが中世の面影を遺している。
- a. アントワープ b. ブリュッセル c. ブルージュ d. リエージュ
- 問30. 地中海に面したトルコのリゾート地として知られる には、美しいマリーナや古い城壁のある旧市街カレイチ地区があり、近郊のアスペンドスでは、2000年の歴史をもつ古代劇場において本年6月には第20回国際オペラ バレエ フェスティバルが開催された。
- a. アンカラ b. アンタルヤ c. イズミール d. エフェソス

問31. タンザニアとの国境に接するケニアの は、キリマンジャロを背景に象の大群やキリン、ライオンなどを見られることで知られ、ヘミングウェイが「キリマンジャロの雪」を執筆した場所としても有名である。

- a. アンボセリ国立公園
- b. ツァボ イースト・ツァボ ウエスト国立公園
- c. セレンゲティ国立公園
- d. マサイ マラ国立保護区

問32. アンデス山脈の標高約 3,700 m の高原にある広大な面積をもつウユニ塩湖（塩原）は南米大陸のほぼ中央に位置する にあり、乾季には塩湖は真っ白な大地となり、雨季にはまるで天空の鏡と呼ばれるような巨大な鏡が出現する。

- a. アルゼンチン
- b. チリ
- c. ボリビア
- d. ペルー

問33. 中国山西省の太原の南方にある は、金融業で活躍した山西商人の故郷として知られ、城壁に囲まれた城内には、明、清時代の街路、楼閣、役所、商店、民家などが遺されている。

- a. 交河故城
- b. 高昌故城
- c. 平遥古城
- d. 麗江古城

問34. インド中部にある には、10 世紀半ばから建立されたジャイナ教、ヒンドゥー教の寺院が多数あり、その外壁には男女合歡を表現したミトゥナ像が刻まれており、特にパールシュバナート寺やカンダーリヤ マハーデーバ寺が知られている。

- a. カジュラーホ
- b. コルカタ
- c. ジャイプル
- d. ブッダガヤ

問35. ネパールの標高約 1,300 m にある「 の谷」には、ダルバール広場の王宮、ヒンドゥー教のパシュパティナート寺院、仏塔のスワヤンブナート寺院などがあり、ヒンドゥー教と仏教が共存する都市として世界文化遺産に登録されている。

- a. カトマンズ
- b. ナガルコット
- c. ポカラ
- d. ルンビニ

問36. メキシコの遺跡に関する次の記述から、正しいものだけをすべて選んでいるものはどれか。
(ア) チチェン イッツァ遺跡は、カンクンの西、メリダの東にあり、神殿や階段状のピラミッドなどの石造建築物が遺されている。
(イ) テオティワカン遺跡は、カンクンの北にあり、死者の大通りを中心に、太陽のピラミッド、ケツァルコアトルの神殿など多くの遺跡がある。
(ウ) ウシュマル遺跡は、メリダの南にあり、高さ約 30 m の魔法使いのピラミッド、尼僧院などがある。

- a. (ア) (イ)
- b. (ア) (ウ)
- c. (イ) (ウ)
- d. (ア) (イ) (ウ)

問37. 韓国の観光地等に関する次の記述のうち、誤っているものはどれか。

- a. 済州島は、韓国最大の火山島で、海岸の絶壁にある雄大な景観の城山日出峰、溶岩洞窟の万丈窟などがある。
- b. ソウル市内にある北村韓屋村は、朝鮮王朝時代から上流階級の居住区として知られ、朝鮮時代の伝統的な瓦葺の家が立ち並んでいる地域である。
- c. 慶州市には新羅王朝時代の王や貴族の大規模な古墳群が遺され、天馬塚と夫婦陵の皇南大塚は代表的なものである。
- d. 釜山タワーのある釜山市の南山公園は、釜山港や市内を見渡せる市民の憩いの場である。

問38. 次のハワイの空港と観光地等の組合せのうち、同じ島にあるものをすべて選びなさい。

- a. オアフ島 - ホノルル空港 - ヌアヌ パリ
- b. カウアイ島 - リフエ空港 - ノース ショア
- c. ハワイ島 - コナ空港 - マウナ ケア
- d. マウイ島 - ヒロ空港 - ハレアカラ

問39. イタリアの古代ローマ時代の遺跡として、a.エトナ山の大噴火により壊滅したポンペイの古代都市遺跡、b.ペローナには夏に野外オペラが催される円形闘技場アリーナ、ローマには政治や宗教儀式的の中心地であった c.フォロ ロマーノや公衆浴場跡の d.カラカラ浴場などが遺されている。

問40. スペインの見どころとして、a.コルドバには16世紀に建てられた絹取引所（ラ ロンハ デ ラ セダ）、b.グラナダにはアルハンブラ宮殿、c.セビリヤにはヒラルダの塔、d.セゴビアにはローマ時代の水道橋などがある。

問41. エンパイア ステート ビルなどの摩天楼が林立するニューヨークの見どころは、a.ハドソン川と b.イースト川に囲まれたマンハッタン島に集中しており、c.五番街とブロードウェイが交差するタイムズ スクエアの劇場街、セントラル パーク内の d.メトロポリタン美術館などがある。

問42. 2016年オリンピック開催予定地リオ デ ジャネイロには、巨大なキリスト像が両手を広げて立つ a.ポン デ アスカールなどの美しい景観や国際的な保養地 b.コパカバーナ海岸、ボサ ノバにも歌われた c.イパネマ海岸などがあり、カーニバル期間中、街は d.サンバのリズムと踊りで盛り上がる。

- 問43. 北京及びその近郊にある世界文化遺産には、明、清時代にわたる皇帝の居城であった a.紫禁城（故宮）、12世紀の建造でマルコポーロ橋と称される b.盧溝橋、皇帝が五穀豊穡を祈った c.天壇（公園）、北京原人の頭骨等が発掘された d.周口店遺跡などがある。
- 問44. オーストラリアの都市のうち、a.ケアンズは、グレートバリアリーフ、b.ブリスベーンは、世界的に知られた一枚岩エアーズロック（ウルル）、c.パースは、砂漠に林立する奇岩群ピナクルズ、d.ダーウィンは、広大な湿原が広がるカカドゥ国立公園への観光拠点となる都市である。

第7問 以下の問45.～問46.の各設問について該当するものを、それぞれの選択肢からすべて選び、問47.～問52.の各設問について該当するものを、それぞれの選択肢から一つ選び、解答用紙にマークしなさい。資料編を必要に応じ参照のこと。 (配点 5点×8)

問45. 次の空港コードと空港名との組合せのうち、合致しているものをすべて選びなさい。

- a. CAN - ケアーズ空港
- b. FCO - ローマ フィウミチーノ空港
- c. ORD - シカゴ オヘア空港

問46. 次の航空会社コードと航空会社名との組合せのうち、合致しているものをすべて選びなさい。

- a. CZ - China Southern Airlines
- b. EY - Emirates
- c. SA - Scandinavian Airlines

問47. 大阪が2013年10月13日(日)正午(12時)のとき、次の各都市の現地時間で誤っているものはどれか。

- a. ボストン (BOS) - 10月12日 午後11時
- b. ヘルシンキ (HEL) - 10月13日 午前5時
- c. パース (PER) - 10月13日 午前11時
- d. グアム (GUM) - 10月13日 午後1時

問48. 2013年8月1日(木)に成田からアメリカン航空176便11時30分発を利用してダラスに09時15分に到着した場合、ダラスの到着月日と成田～ダラス間の所要時間との組合せのうち、正しいものはどれか。

- a. 8月1日 11時間45分
- b. 8月2日 11時間45分
- c. 8月1日 12時間45分
- d. 8月2日 12時間45分

問49. 東京発台北行きの航空便に関する次の記述のうち、正しいものはどれか。

- a. 成田空港発のエバー航空は、第2ターミナルから出発する。
- b. 日本航空とチャイナエアラインは、すべての便においてコードシェアしている。
- c. 全日空 1185 便の東京～台北間の所要時間は、3時間20分である。
- d. キャセイ航空には、ファーストクラスの設定がある。

問50. 東京発の航空機で台北を経由して当日中にマカオ行きに乗り継ぐ場合、次の各便の組合せのうち、Minimum connecting times に適合しているものを選びなさい。

- a. JL097(11:30着) - GE353(12:50発)
- b. BR195(13:05着) - NX609(14:40発)
- c. BR189(13:30着) - BR811(14:45発)
- d. JL805(14:05着) - GE355(15:30発)

問51. 海外旅行中に旅券を紛失し、旅券の発給を申請した旅行者が旅券の再取得に要した費用について、帰国後に旅行者が加入している海外旅行傷害保険で保険金を請求する場合、携行品損害保険金の支払いの対象とならないものは次のうちどれか。

- a. 領事官に納付した発給手数料と電信料
- b. 旅券を紛失した地から旅券発給地へ赴く被保険者の交通費
- c. 旅券発給地における被保険者の宿泊施設の客室料
- d. 旅券発給地における市内レストランでの被保険者の食事代

問52. 日本人が観光を目的として旅行をする場合、無査証で旅行ができる行程は次のうちどれか。

- a. 全行程6日間のハノイ、シェムリアップの旅
- b. 全行程7日間のデリー、ジャイプール、アグラの旅
- c. 全行程8日間のイスタンブール、パムッカレ、カッパドキアの旅
- d. 全行程9日間のサンパウロ、リオデジャネイロの旅