

③ 国内旅行実務

第1問 以下の問1.～問17.の各設問について、該当するものをそれぞれの選択肢から一つ選び、問18.～問20.の各設問について、該当するものをそれぞれの選択肢からすべて選び、解答用紙にマークしなさい。(地名については、都道府県等の公式ホームページ、百科事典等を参考としている。) (配点 2点×20)

問1. 次の空欄に該当するものはどれか。

積丹半島の付け根にある は、昨年度放映されたNHK連続テレビ小説の舞台で、施設内を見学できるウイスキーの蒸溜所があり、かつてはニシン漁で栄えた地のひとつであった。

- a. 小樽市 b. 余市町 c. 積丹町 d. 石狩市

問2. 次の空欄に該当するものはどれか。

岩手県南東部にある には、人が住む母屋と馬小屋がL字形につながった南部曲り家と呼ばれる古民家を移築したふるさと村、カップ伝説で知られるカップ淵などの見どころがある。

- a. 大船渡市 b. 釜石市 c. 北上市 d. 遠野市

問3. 次の空欄に該当するものはどれか。

茨城県潮来市で毎年5月下旬から6月下旬に催される水郷潮来 は、初夏の訪れを告げる祭りで、会場の園内には約500種100万株の花々が一面に咲き、期間中には手漕ぎ「ろ舟」で嫁ぎ先へ向かう嫁入り舟も見ることができる。

- a. 紫陽花まつり b. あやめまつり c. 藤まつり d. 牡丹まつり

問4. 次の空欄に該当するものはどれか。

新しい街並みから歴史ある街並みへと景観が変化する参道を経て至る長野県長野市にある では、本年4月5日から5月31日に数え年で7年に一度の前立本尊の御開帳が行われ、多くの参拝客が訪れた。

- a. 岩松院 b. 北向観音 c. 諏訪大社 d. 善光寺

問5. 次の空欄に該当するものはどれか。

本年3月に上信越高原国立公園から分離し、32番目の国立公園に指定された妙高戸隠連山国立公園には、妙高山、黒姫山などの北信五岳や、火山による堰止湖である[]などがある。

- a. 白樺湖 b. 諏訪湖 c. 蓼科湖 d. 野尻湖

問6. 次の空欄に該当するものはどれか。

弘法大師空海が密教の道場を開いてから今年で1200年目を迎えた高野山は、高野山真言宗総本山[]をはじめ、100を超える塔頭寺院があり、そのうちの約半数は宿坊として参詣者に宿を提供している。

- a. 紀三井寺 b. 金剛峯寺 c. 青岸渡寺 d. 道成寺

問7. 次の空欄に該当するものはどれか。

本年、天守が国宝に指定された[]は千鳥城とも呼ばれ、天守閣からは、夕陽の美しさで知られる湖を望むことができる。

- a. 犬山城 b. 彦根城 c. 松江城 d. 松本城

問8. 次の空欄に該当するものはどれか。

徳島県鳴門市にある[]は、古代壁画から現代絵画までの1,000点を超える西洋名画を特殊技術により原寸大の陶板で忠実に再現した陶板名画美術館で、日本にいながら世界の名画などを体験できる場所として知られている。

- a. 足立美術館 b. 大原美術館 c. 大塚国際美術館 d. 地中美術館

問9. 次の空欄（ア）（イ）のそれぞれに該当するものはどれか。

瀬戸内しまなみ海道は、広島県の[（ア）]から愛媛県の[（イ）]間を大小10本の橋で結び、中でも来島海峡に架かる来島海峡大橋は世界初の3連吊橋となっている。

- a. （ア）尾道市 （イ）今治市 b. （ア）尾道市 （イ）新居浜市
c. （ア）三原市 （イ）今治市 d. （ア）三原市 （イ）新居浜市

問10. 次の空欄に該当するものはどれか。

愛媛県宇和島市は宇和島伊達家の城下町で、宇和島城や大名庭園[]などの見どころがあり、1トンを超える牛がぶつかりあう伝統の闘牛も観光客に人気がある。

- a. 後楽園 b. 松濤園 c. 仙巖園 d. 天赦園

問11. 北海道の観光地等に関する次の記述から、正しいものだけをすべて選んでいるものはどれか。

- (ア) 釧路市には、函館の朝市、札幌の二条市場とともに北海道三大市場のひとつといわれている和商市場がある。
- (イ) 旭川市には、動物の「行動」を効果的に見せることで知られる旭山動物園やこの地を舞台とした「氷点」の作者である三浦綾子の記念文学館がある。
- (ウ) 函館市には、箱館戦争の舞台となった五稜郭、トラピスチヌ修道院などの見どころや道内有数の温泉地である川湯温泉がある。

- a. (ア)(イ) b. (ア)(ウ) c. (イ)(ウ) d. (ア)(イ)(ウ)

問12. 青森県の観光地等に関する次の記述から、正しいものだけをすべて選んでいるものはどれか。

- (ア) 下北半島を代表する景勝地仏ヶ浦は、海岸線沿いに如来の首、五百羅漢、一ツ仏などの名称がつけられた仏像を思わせる白緑色の奇岩が連なっている。
- (イ) 津軽半島にある浅虫温泉は、青森の奥座敷ともいわれる風光明媚な温泉地で、湯ノ島を背景に日本海に沈む夕日の景観の美しさで知られている。
- (ウ) 青森市にある三内丸山遺跡は、国内最大級の縄文時代の集落跡で、竪穴住居や大型掘立柱建物などが復元されている。

- a. (ア)(イ) b. (ア)(ウ) c. (イ)(ウ) d. (ア)(イ)(ウ)

問13. 関東・中部地方の観光地等に関する次の記述から、正しいものだけをすべて選んでいるものはどれか。

- (ア) 世界文化遺産に登録された栃木県日光市にある「日光の社寺」は、東照宮、輪王寺、二荒山神社の二社一寺の建造物群とこれらを取り巻く遺跡からなっている。
- (イ) 世界文化遺産に登録された群馬県富岡市にある富岡製糸場は、明治政府がフランスから技術を導入し設立した官営の製糸工場で、和洋の建築技術を融合した建物である。
- (ウ) 「明治日本の産業革命遺産」として世界文化遺産に登録された静岡県伊豆の国市にある韮山反射炉は、実際に大砲を製造した反射炉としては、国内で唯一現存するものである。

- a. (ア)(イ) b. (ア)(ウ) c. (イ)(ウ) d. (ア)(イ)(ウ)

問14. 九州地方の観光地等に関する次の記述から、正しいものだけをすべて選んでいるものはどれか。

- (ア) 城下町として栄えた福岡県柳川市は水郷の町として知られ、縦横に走る掘割を巡る川下りをはじめ、藩主立花家の別邸「御花」や詩人北原白秋の生家などがある。
- (イ) 江戸幕府の天領として栄えた大分県日田市には、商家や蔵屋敷の残る豆田町の町並みや「明治日本の産業革命遺産」として世界文化遺産に登録された旧集成館がある。
- (ウ) 宮崎県日南市にある飫肥は、風情のある商家が軒を連ね、町を流れる掘割の清流など江戸時代を彷彿とさせる町並みが残る城下町である。

- a. (ア)(イ) b. (ア)(ウ) c. (イ)(ウ) d. (ア)(イ)(ウ)

問15. 沖縄県の観光地等に関する次の記述から、正しいものだけをすべて選んでいるものはどれか。

- (ア) 古宇利大橋は、今帰仁村の古宇利島と名護市の屋我地島を結ぶ全長約2 kmの橋で、古宇利島には海拔82 mからの絶景を楽しむことができる古宇利オーシャンタワーがある。
- (イ) 本部半島にある沖縄美ら海水族館には、世界最大の魚ジンベエザメや世界初の繁殖に成功したナンヨウマンタが観察できる巨大水槽「黒潮の海」がある。
- (ウ) 辺戸岬は、沖縄本島最北端の岬で、荒涼とした断崖からは、水平線上に鹿児島県の与論島が望めることがある。

- a. (ア)(イ) b. (ア)(ウ) c. (イ)(ウ) d. (ア)(イ)(ウ)

問16. 次の施設と温泉地との組合せのうち、同一都道府県にない組合せはどれか。

- a. 森鷗外記念館 - 玉造温泉 b. 小泉八雲記念館 - 三朝温泉
- c. 水木しげる記念館 - 皆生温泉 d. 夢二郷土美術館 - 湯郷温泉

問17. 世界文化遺産「琉球王国のグスク及び関連遺産群」の構成資産と所在する市との組合せのうち、誤っているものはどれか。

- a. 勝連城跡 - うるま市 b. 識名園 - 名護市
- c. 首里城跡 - 那覇市 d. 斎場御嶽 - 南城市

問18. 次の観光地等の組合せのうち、同一都道府県にある組合せをすべて選びなさい。

- a. 田沢湖 - 巖美溪
- b. 立石寺(山寺) - 松島
- c. 猪苗代湖 - 大内宿

問19. 次の温泉地と観光地等との組合せのうち、同一都道府県にある組合せをすべて選びなさい。

- a. おごと温泉 - 三井寺
- b. 十津川温泉郷 - 谷瀬の吊り橋
- c. 城崎温泉 - 天橋立

問20. 次の温泉地と観光地等との組合せのうち、同一都道府県にある組合せをすべて選びなさい。

- a. 嬉野温泉 - 端島（軍艦島）
- b. 黒川温泉 - 水前寺成趣園
- c. 指宿温泉 - 高千穂峡

第2問 国内航空に関する以下の問21.～問23.の各設問について、該当するものをそれぞれの選択肢から一つ選び、解答用紙にマークしなさい。(配点 5点×3)

問21. 日本航空の小児に関する次の記述のうち、正しいものはどれか。

- a. 搭乗日の2日前に予約した小児普通運賃は、搭乗日の前日までに購入しなければ予約は予告なしに取消しとなる。
- b. 満5歳の小児は、航空会社所定の申込書と誓約書を所持すれば、大人の同伴者がいなくても1人で搭乗することができる。
- c. 搭乗日が8月31日の小児普通運賃の予約受付開始日は、7月1日である。
- d. 小児普通運賃を搭乗便出発時刻までに取り消しする場合、取消手数料は不要である。

問22. 全日空の航空券の取り扱いに関する次の記述のうち、誤っているものはどれか。

- a. 「片道運賃」を、搭乗日の前日に予約する場合、その購入期限は、搭乗便の出発時刻の20分前までである。
- b. 「旅割21」の取消手数料は、路線ごとに定められた取消手数料区分の取消手数料が適用される。
- c. 出発および到着の両空港がともに「旅客施設使用料」が設定されている場合、出発空港の「旅客施設使用料」のみが航空券に含まれている。
- d. 「シニア空割」は、利用条件を満たした満65歳以上で、搭乗日当日、出発空港において空席がある場合に利用可能である。

問23. 以下のeチケットお客様控を往路の搭乗後、9月5日に復路を取り消し、払い戻しをした場合、返金額で正しいものは次のうちどれか。



eチケットお客様控 (1/2)
 ELECTRONIC TICKET ITINERARY/RECEIPT

ジャタ イチロウ様 (35歳)

確認番号: 123456

9月4日 JAL 255便

東京 / 羽田 08:45発 ➡ 広島 10:10着

TOKYO/HANEDA HIROSHIMA

予約番号: 0123

往復割引 HRT
 ¥30,690

有効期限: 2015年10月12日
 ※予約済みの場合は予約便に限り有効

RTG-HND(HRT)HIJ(HRT)HND TTL61380
 TNERJ8 291-116-994 55015071192577 017
 L3 2015年07月14日

発行: ★★★★★



eチケットお客様控 (2/2)
 ELECTRONIC TICKET ITINERARY/RECEIPT

ジャタ イチロウ様 (35歳)

確認番号: 123456

9月6日 JAL 262便

広島 17:10発 ➡ 東京 / 羽田 18:30着

HIROSHIMA TOKYO/HANEDA

予約番号: 0234

往復割引 HRT
 ¥30,690

有効期限: 2015年10月12日
 ※予約済みの場合は予約便に限り有効

RTG-HND(HRT)HIJ(HRT)HND TTL61380
 TNERJ8 291-116-994 55015071192577 021
 L3 2015年07月14日

発行: ★★★★★

※東京/羽田～広島間の片道運賃は34,890円である。(羽田空港の旅客施設使用料を含む。)

- | | |
|---|---------|
| a. (30,690円 + 30,690円) - 34,890円 - 430円 = 26,060円 | 26,060円 |
| b. (30,690円 + 30,690円) - 34,890円 = 26,490円 | 26,490円 |
| c. 30,690円 - 430円 = 30,260円 | 30,260円 |
| d. 30,690円 | 30,690円 |

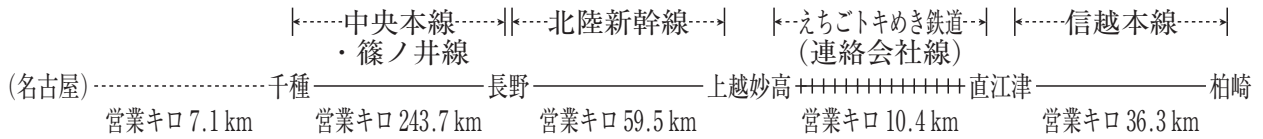
第3問 旅客鉄道（JR）に関する以下の問24.～問31.の各設問について、該当するものをそれぞれの選択肢から一つ選び、問32.の設問について、該当するものを選択肢からすべて選び、解答用紙にマークしなさい。（配点 5点×9）

問24. 大都市近郊区間内相互発着となる区間の片道普通乗車券の取扱いに関する次の記述のうち、誤っているものはどれか。

- a. 実際に乗車する経路にかかわらず、最も安くなる経路で計算した運賃で乗車することができる。
- b. 乗車する区間の営業キロにかかわらず、有効期間は1日である。
- c. 営業キロが100キロを超える区間であっても途中下車はできない。
- d. 営業キロが100キロを超える区間であっても学生割引は適用されない。

問25. 以下の行程で千種から柏崎までを、大人1人が途中下車しないで乗車する場合、普通旅客運賃で正しいものは次のうちどれか。

[行程]



※千種は名古屋市内に属する駅である。

※えちごトキめき鉄道の上越妙高～直江津間は、JRの各駅と通過連絡運輸の取扱いを行っている。

【JR本州3社内の幹線用普通運賃表】(抜粋)

営業キロ (運賃計算キロ)	片道運賃
7 ~ 10 km	200 円
36 ~ 40 km	670 円
301 ~ 320 km	5,400 円
321 ~ 340 km	5,620 円
341 ~ 360 km	5,940 円

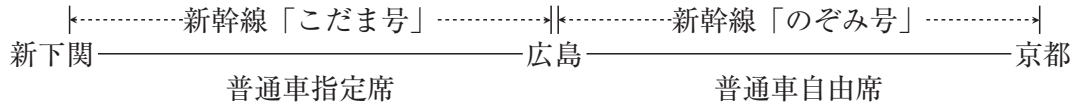
【えちごトキめき鉄道の運賃表】(抜粋)

上越妙高～直江津	240 円
----------	-------

- a. 243.7 km + 59.5 km + 36.3 km = 339.5 km 5,620 円 ①
 えちごトキめき鉄道 240 円 ②
 ① + ② = 5,860 円
- b. 7.1 km + 243.7 km + 59.5 km + 36.3 km = 346.6 km --- 5,940 円 ①
 えちごトキめき鉄道 240 円 ②
 ① + ② = 6,180 円
- c. 243.7 km + 59.5 km = 303.2 km 5,400 円 ①
 36.3 km 670 円 ②
 えちごトキめき鉄道 240 円 ③
 ① + ② + ③ = 6,310 円
- d. 7.1 km 200 円 ①
 243.7 km + 59.5 km = 303.2 km 5,400 円 ②
 36.3 km 670 円 ③
 えちごトキめき鉄道 240 円 ④
 ① + ② + ③ + ④ = 6,510 円

問26. 以下の行程を大人1人が、閑散期に新幹線の改札口を出ないで乗り継ぐ場合、特急料金で正しいものは次のうちどれか。

[行程]



【東海道・山陽新幹線「ひかり・こだま号」の指定席特急料金（通常期）】（抜粋）

新下関		
3,000円	広島	
5,390円	4,610円	京都

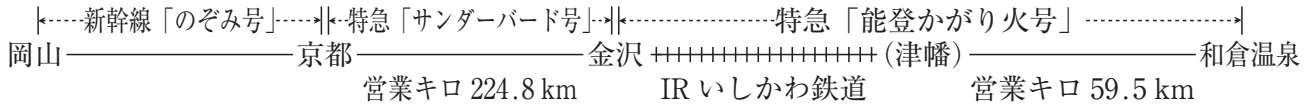
【東海道・山陽新幹線「のぞみ号」の指定席特急料金（通常期）】（抜粋）

広島	
4,930円	京都

- a. $5,390円 - 520円 = 4,870円$ 4,870円
- b. $5,390円 - 200円 = 5,190円$ 5,190円
- c. $5,390円 + (4,930円 - 4,610円) - 200円 = 5,510円$ 5,510円
- d. $(3,000円 - 200円) + (4,930円 - 520円) = 7,210円$ 7,210円

問27. 以下の行程を大人1人が、通常期に普通車指定席を利用して途中下車しないで当日中に乗り継ぐ場合、京都～和倉温泉間の特急料金で正しいものは次のうちどれか。

[行程]



※ IR いしかわ鉄道は、JR の各駅と通過連絡運輸の取扱いを行っている。
 ※京都～金沢間と津幡～和倉温泉間の通算の営業キロは 284.3 km である。

【JR 西日本の A 特急料金 (通常期)】 (抜粋)

営業キロ	200 km まで	300 km まで
指定席特急料金	(略)	2,900 円

【津幡～和倉温泉間で営業キロが 51 キロ以上の区間の指定席特急料金 (通常期)】

指定席特急料金	1,170 円
---------	---------

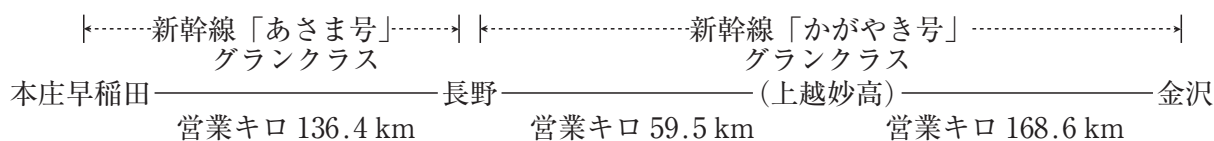
【IR いしかわ鉄道の指定席特急料金】

金沢～津幡	200 円
-------	-------

- a. $(2,900 \text{ 円} + 200 \text{ 円}) \div 2 = 1,550 \text{ 円}$ 1,550 円
- b. $2,900 \text{ 円} \div 2 = 1,450 \text{ 円}$
 $1,450 \text{ 円} + 200 \text{ 円} = 1,650 \text{ 円}$ 1,650 円
- c. $(2,900 \text{ 円} + 200 \text{ 円} + 1,170 \text{ 円}) \div 2 = 2,135 \text{ 円} \rightarrow 2,130 \text{ 円}$ 2,130 円
- d. $2,900 \text{ 円} \div 2 = 1,450 \text{ 円}$
 $1,450 \text{ 円} + 200 \text{ 円} + 1,170 \text{ 円} = 2,820 \text{ 円}$ 2,820 円

問28. 以下の行程を大人1人が、通常期に新幹線の改札口を出ないで乗り継ぐ場合、特急料金とグランクラス料金の合計額で正しいものは次のうちどれか。

[行程]



※本庄早稲田～上越妙高間の営業キロは195.9 kmである。

※長野～金沢間の営業キロは228.1 kmである。

【北陸新幹線の指定席特急料金（通常期）】（抜粋）

本庄早稲田	
6,040円	金沢

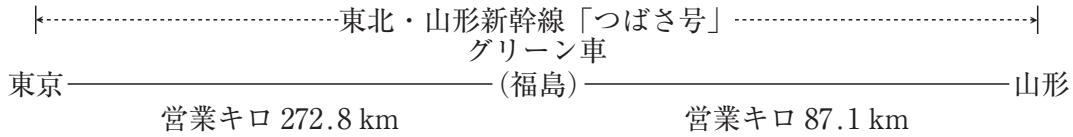
【JR 東日本内相互発着区間及び JR 西日本内の北陸新幹線（上越妙高～金沢間相互発着区間）のグランクラス料金】（抜粋）

営業キロ	100 km まで	200 km まで	300 km まで
グランクラス料金（A表） 〔かがやき号〕	6,170円	7,200円	8,230円
グランクラス料金（B表） 〔あさま号〕	4,120円	5,150円	6,180円

- a. 特急料金 6,040円 - 520円 = 5,520円 ①
 グランクラス料金(5,150円 - 1,030円) + (7,200円 - 1,030円) = 10,290円 ②
① + ② = 15,810円
- b. 特急料金 6,040円 - 520円 = 5,520円 ①
 グランクラス料金(5,150円 - 1,030円) + (8,230円 - 1,030円) = 11,320円 ②
① + ② = 16,840円
- c. 特急料金 6,040円 - 520円 = 5,520円 ①
 グランクラス料金(7,200円 - 1,030円) + (7,200円 - 1,030円) = 12,340円 ②
① + ② = 17,860円
- d. 特急料金 6,040円 - 520円 = 5,520円 ①
 グランクラス料金 (5,150円 + 6,170円) - 1,030円 = 10,290円 ②
 7,200円 - 1,030円 = 6,170円 ③
① + ② + ③ = 21,980円

問29. 以下の行程を大人1人が、通常期に直通して乗車する場合、特急料金とグリーン料金の合計額で正しいものは次のうちどれか。

[行程]



※東京～山形間の営業キロは359.9 kmである。

【東北新幹線の指定席特急料金（通常期）】（抜粋）

東京	
4,200円	福島

【東北新幹線にまたがって乗車する場合の奥羽本線の指定席特急料金（通常期）】（抜粋）

営業キロ	100 km まで
指定席特急料金	1,200円

【JR 東日本のグリーン料金】（抜粋）

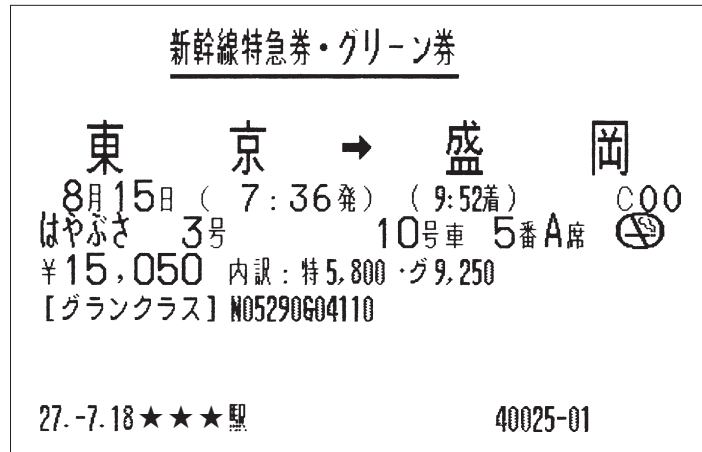
営業キロ	100 km まで	200 km まで	300 km まで	400 km まで
グリーン料金	1,030円	(略)	3,090円	4,110円

- a. 特急料金(4,200円 - 520円) + (1,200円 - 520円) = 4,360円 ①
 グリーン料金 = 4,110円 ②
 ① + ② = 8,470円
- b. 特急料金(4,200円 - 520円) + (1,200円 - 520円) = 4,360円 ①
 グリーン料金 3,090円 + 1,030円 = 4,120円 ②
 ① + ② = 8,480円
- c. 特急料金(4,200円 - 520円) + (1,200円 - 370円) = 4,510円 ①
 グリーン料金 = 4,110円 ②
 ① + ② = 8,620円
- d. 特急料金(4,200円 - 520円) + (1,200円 - 370円) = 4,510円 ①
 グリーン料金 3,090円 + 1,030円 = 4,120円 ②
 ① + ② = 8,630円

問30. 以下の列車を同日中に乗り継ぐ場合、下線を付した列車に乗継割引が適用されるものは次のうちどれか。

- a. 仙台 $\xrightarrow{\text{新幹線「はやぶさ号」}}$ 新青森 $\xrightarrow{\text{普通列車}}$ 青森 $\xrightarrow{\text{急行「はまなす号」}}$ 札幌
- b. 糸魚川 $\xrightarrow{\text{新幹線「はくたか号」}}$ 富山 $\xrightarrow{\text{特急「(ワイドビュー)ひだ号」}}$ 高山
- c. 名古屋 $\xrightarrow{\text{新幹線「のぞみ号」}}$ 品川 $\xrightarrow{\text{特急「ひたち号」}}$ 水戸
- d. 広島 $\xrightarrow{\text{新幹線「みずほ号」}}$ 小倉 $\xrightarrow{\text{特急「ソニック号」}}$ 別府

問31. 以下の JR 券を 8 月 14 日に払いもどしをした場合、払いもどし額で正しいものはどれか。



- a. $15,050 \text{ 円} \times 0.3 = 4,515 \text{ 円} \rightarrow 4,510 \text{ 円}$
 $15,050 \text{ 円} - 4,510 \text{ 円} = 10,540 \text{ 円}$ 10,540 円
- b. $9,250 \text{ 円} \times 0.3 = 2,775 \text{ 円} \rightarrow 2,770 \text{ 円}$
 $15,050 \text{ 円} - 2,770 \text{ 円} = 12,280 \text{ 円}$ 12,280 円
- c. $5,800 \text{ 円} \times 0.3 = 1,740 \text{ 円}$
 $15,050 \text{ 円} - 1,740 \text{ 円} = 13,310 \text{ 円}$ 13,310 円
- d. $15,050 \text{ 円} - 330 \text{ 円} = 14,720 \text{ 円}$ 14,720 円

問32. 交通新聞社発行 JR 時刻表（抜粋）に関する次の記述のうち、正しいものをすべて選びなさい。

- a. 快速「リゾートあすなろ竜飛1号」は、グリーン車両が併結されており、全車両が指定席である。
- b. 急行「はまなす号」が8月12日に青森駅に到着する時刻は、6時19分である。
- c. 特急「スーパー白鳥20号」は、中小国駅を経由しない。

交通新聞社発行 JR時刻表 (2015年6月号より抜粋)

27. 5.25 訂補				新青森・青森—三厩・函館 (津軽線・津軽海峡線・江差線) (その1)																			
●換算キロ欄の太字は運賃計算キロです。				列車番号		121D	115D	1153D	325M	327D	809M	125D	329M	127D	4093M	4095M	9333D	9639D	1159D				
線名	換算キロ	換算キロ	営業キロ	列車名	津軽線														津軽海峡線			函館線	
					時刻表														時刻表			時刻表	
津軽線			3.9	新青森	あおもり				
				青森	あおもり				
				津軽	あおもり				
				奥羽	あおもり				
	0.0	34.5	31.4		かにた				
	38.5	35.0						
	51.3	46.6						
	53.5	48.6						
	56.1	51.0						
	58.0	52.7						
	61.4	55.8						
	14.3	48.8	44.4		津軽今別				
	96.6	131.1	119.2		木古内				
	100.8	135.3	123.0					
	104.5	139.0	126.4					
	107.9	142.4	129.5					
	113.3	147.8	134.4					
118.8	153.3	139.4						
128.5	163.0	148.2						
129.8	164.3	149.4						
131.0	165.5	150.5						
132.4	166.9	151.7						
135.2	169.7	154.3						
138.2	172.7	157.0						
141.6	176.1	160.4						
				終着				
				次の掲載頁				
津軽線				新青森	あおもり				
				青森	あおもり				
				津軽	あおもり				
				奥羽	あおもり				
	0.0	34.5	31.4		かにた				
	38.5	35.0						
	51.3	46.6						
	53.5	48.6						
	56.1	51.0						
	58.0	52.7						
	61.4	55.8						
	14.3	48.8	44.4		津軽今別				
	96.6	131.1	119.2		木古内				
	100.8	135.3	123.0					
	104.5	139.0	126.4					
	107.9	142.4	129.5					
	113.3	147.8	134.4					
118.8	153.3	139.4						
128.5	163.0	148.2						
129.8	164.3	149.4						
131.0	165.5	150.5						
132.4	166.9	151.7						
135.2	169.7	154.3						
138.2	172.7	157.0						
141.6	176.1	160.4						
				終着				
				次の掲載頁				
津軽線				新青森	あおもり				
				青森	あおもり				
				津軽	あおもり				
				奥羽	あおもり				
	0.0	34.5	31.4		かにた				
	38.5	35.0						
	51.3	46.6						
	53.5	48.6						
	56.1	51.0						
	58.0	52.7						
	61.4	55.8						
	14.3	48.8	44.4		津軽今別				
	96.6	131.1	119.2		木古内				
	100.8	135.3	123.0					
	104.5	139.0	126.4					
	107.9	142.4	129.5					
	113.3	147.8	134.4					
118.8	153.3	139.4						
128.5	163.0	148.2						
129.8	164.3	149.4						
131.0	165.5	150.5						
132.4	166.9	151.7						
135.2	169.7	154.3						
138.2	172.7	157.0						
141.6	176.1	160.4						
				終着				
				次の掲載頁				

津軽線・津軽海峡線・江差線(新青森・青森—三厩・函館)(その1)

④ 海外旅行実務

第1問 下記の適用条件に基づき、資料編を参照のうえ、以下の問1.～問5.の各設問について、該当するものをそれぞれの選択肢から一つ選び、解答用紙にマークしなさい。

(配点 5点×5)

運賃計算上の留意点

- ・各設問について、与えられた条件に基づき、運賃規則に合致する最も安価な運賃を算出すること。
- ・各設問において、途中降機料金・特定便加算額を必要とする場合は計算式に含めること。
- ・各旅程は、往路・復路とも同一予約クラスの運賃を適用するものとする。

適用条件

1. 旅程： 各設問に記載
2. クラス・人員： エコノミークラス・大人1名
3. 適用運賃： この旅程に適用する運賃は下記3種類のうちいずれかとする。
ANA エコノミークラス割引運賃「Flex Plus」(予約クラス：B)
ANA エコノミークラス割引運賃「Basic Plus」(予約クラス：U)
ANA エコノミークラス割引運賃「Value」(予約クラス：H)
4. 運賃・規則： 資料編参照
5. 運賃計算上の折り返し地点と旅行形態：各設問に記載
6. 航空券の予約完了日・発券日：各設問に記載
7. 航空券の発券・販売：日本
8. その他： 運賃は本来 NUC 額にて算出するが、計算簡素化のため円貨額にて算出するものとする。
日本発着国際線は ANA 運航便である。

問1. 以下の条件（1. ～ 4.）において、全旅程に適用できる最も安価な運賃算出のための計算式はどれか。

- | 1. 旅程： | | 発 | 着 |
|----------------------------|-------|----------------|---------|
| HANEDA(TYO) – BANGKOK(BKK) | NH847 | 07OCT(水) 10：50 | 15：25 |
| BANGKOK(BKK) – HANEDA(TYO) | NH850 | 10OCT(土) 22：10 | 06：20+1 |
2. 運賃計算上の折り返し地点と旅行形態：BKK を折り返し地点とする往復旅行
3. 予約完了日・発券日：2015年10月1日(木)
4. 予約の変更：全旅程を予約の変更なく旅行を完了するものとする。

- | | 往 路 | | 復 路 |
|----|-----------------------------|---|-----------------------------|
| a. | 123,000 円 × 1 / 2 + 5,000 円 | + | 123,000 円 × 1 / 2 + 5,000 円 |
| b. | 139,000 円 × 1 / 2 + 2,500 円 | + | 139,000 円 × 1 / 2 + 2,500 円 |
| c. | 139,000 円 × 1 / 2 + 5,000 円 | + | 139,000 円 × 1 / 2 + 5,000 円 |
| d. | 183,000 円 × 1 / 2 + 4,000 円 | + | 203,000 円 × 1 / 2 + 4,000 円 |

問2. 上記問1. で発券した航空券を、旅行者が2015年10月3日に旅行を取り消し、予約発券した旅行会社を通じて払い戻し手続きをする場合、航空運賃の払い戻しに関する次の記述のうち、正しいものはどれか。（旅行会社が定めた払い戻しにかかる取扱手数料は考慮しないものとする。）

- a. 手数料なしで払い戻し可能
- b. 10,000 円の手数料を支払い、払い戻し可能
- c. 20,000 円の手数料を支払い、払い戻し可能
- d. 払い戻し不可

問3. 以下の条件（1. ～ 4.）において、全旅程に適用できる最も安価な運賃算出のための計算式はどれか。

- | | | | |
|----------------------------|-------|----------|-------------|
| 1. 旅程： | | 発 | 着 |
| HANEDA(TYO) – BANGKOK(BKK) | NH847 | 07OCT(水) | 10：50 15：25 |
| BANGKOK(BKK) – HANEDA(TYO) | NH848 | 10OCT(土) | 10：25 18：45 |
2. 運賃計算上の折り返し地点と旅行形態：BKK を折り返し地点とする往復旅行
3. 予約完了日・発券日：2015年10月4日(日)
4. 予約の変更：全旅程を予約の変更なく旅行を完了するものとする。

- | | 往 路 | | 復 路 |
|----|-----------------------------|---|-------------------|
| a. | 123,000 円 × 1 / 2 + 5,000 円 | + | 123,000 円 × 1 / 2 |
| b. | 139,000 円 × 1 / 2 + 2,500 円 | + | 139,000 円 × 1 / 2 |
| c. | 183,000 円 × 1 / 2 + 4,000 円 | + | 183,000 円 × 1 / 2 |
| d. | 183,000 円 × 1 / 2 + 4,000 円 | + | 203,000 円 × 1 / 2 |

問4. 以下の条件（1. ～ 4.）において、全旅程に適用できる最も安価な運賃算出のための計算式はどれか。

- | | | | |
|-------------------------------|----------|----------|---------------|
| 1. 旅程： | | 発 | 着 |
| HANEDA(TYO) – BANGKOK(BKK) | NH849 | 10OCT(土) | 00：25 05：00 |
| BANGKOK(BKK) – CHIANGMAI(CNX) | PG 217 | 13OCT(火) | 12：30 13：45 |
| CHIANGMAI(CNX) – BANGKOK(BKK) | 他の運送機関利用 | | |
| BANGKOK(BKK) – HANEDA(TYO) | NH850 | 22OCT(木) | 22：10 06：20+1 |
2. 運賃計算上の折り返し地点と旅行形態：往路の終点を CNX とし、復路の始点を BKK とするオープンジョー旅行
3. 予約完了日・発券日：2015年10月4日(日)
4. 予約の変更：タイ滞在中に復路の BKK / TYO を 10月22日(木)から 10月21日(水)の NH850 便の同一クラスに予約の変更が可能なものとする。

- | | 往 路 | | 復 路 |
|----|---|---|-----------------------------|
| a. | 123,000 円 × 1 / 2 + 7,000 円 | + | 123,000 円 × 1 / 2 + 5,000 円 |
| b. | 139,000 円 × 1 / 2 + 7,000 円 | + | 139,000 円 × 1 / 2 |
| c. | (139,000 円 + 8,000 円) × 1 / 2 + 7,000 円 | + | 139,000 円 × 1 / 2 + 2,500 円 |
| d. | (183,000 円 + 8,000 円) × 1 / 2 + 7,000 円 | + | 183,000 円 × 1 / 2 + 4,000 円 |

問5. 以下の条件（1. ～ 4.）において、全旅程に適用できる最も安価な運賃算出のための計算式はどれか。

1. 旅程：	発	着
HANEDA(TYO) – HANOI(HAN)	NH857 10OCT(土) 08：55	12：15
HANOI(HAN) – BANGKOK(BKK)	VN611 13OCT(火) 09：00	10：50
BANGKOK(BKK) – HANOI(HAN)	TG564 17OCT(土) 17：50	19：40
HANOI(HAN) – HANEDA(TYO)	NH858 18OCT(日) 13：55	21：05

2. 運賃計算上の折り返し地点と旅行形態：BKK を折り返し地点とする往復旅行

3. 予約完了日・発券日：2015年10月4日(日)

4. 予約の変更：全旅程を予約の変更なく旅行を完了するものとする。

往 路	復 路
a. $139,000 \text{ 円} \times 1/2 + 7,000 \text{ 円} + 2,500 \text{ 円}$	+ $139,000 \text{ 円} \times 1/2 + 2,500 \text{ 円}$
b. $139,000 \text{ 円} \times 1/2 + 7,000 \text{ 円} + 2,500 \text{ 円}$	+ $139,000 \text{ 円} \times 1/2 + 7,000 \text{ 円} + 2,500 \text{ 円}$
c. $183,000 \text{ 円} \times 1/2 + 7,000 \text{ 円} + 4,000 \text{ 円}$	+ $183,000 \text{ 円} \times 1/2 + 4,000 \text{ 円}$
d. $183,000 \text{ 円} \times 1/2 + 7,000 \text{ 円} + 4,000 \text{ 円}$	+ $183,000 \text{ 円} \times 1/2 + 7,000 \text{ 円} + 4,000 \text{ 円}$

第2問 下記の適用条件に基づき、資料編を参照のうえ、以下の問6.～問8.の各設問について、該当するものをそれぞれの選択肢から一つ選び、解答用紙にマークしなさい。

(配点 5点×3)

運賃計算上の留意点

・HIP チェックについて、中国国内の都市間運賃は、日本と中国間運賃より安価なため運賃表の掲載を省略している。

適用条件

1. 旅程：

			発	着
HANEDA(TYO) – SHANGHAI(SHA)	JL081	20SEP (日)	09 : 25	11 : 30
SHANGHAI(SHA) – BEIJING(BJS)	MU5111	23SEP (水)	13 : 00	15 : 20
BEIJING(BJS) – QINGDAO(TAO)	他の運送機関利用			
QINGDAO(TAO) – SHANGHAI(SHA)	MU5520	03OCT(土)	14 : 10	15 : 40
SHANGHAI(SHA) – HANEDA(TYO)	JL082	05OCT(月)	12 : 50	16 : 45
2. クラス・人員： エコノミークラス 大人1名
3. 適用運賃： JAL エコノミークラス(Y2)普通運賃
4. 運賃・規則： 資料編参照
5. 運賃計算上の折り返し地点と旅行形態：

往路の終点を BJS とし、復路の始点を TAO とするオープンジョー旅行
6. 各区分 TPM と MPM：
 - ・各区分 TPM TYO – 1111(EH) – SHA – 676 – BJS TAO – 349 – SHA – 1111(EH) – TYO
 - ・MPM TYO – BJS 1575(EH) TYO – TAO 1327 (EH)
7. 航空券の予約完了日・発券日： 2015年9月16日(水)
8. 航空券の発券・販売： 日本
9. その他： 運賃は本来 NUC 額にて算出するが、計算簡素化のため円貨額にて算出するものとする。

〈参考〉各区分の TPM 合計

TYO – SHA – BJS 1787 TAO – SHA – TYO 1460

問6. この旅程において、JAL エコノミークラス（Y2）普通運賃を適用し、往路を Y クラスで予約した場合、往路の運賃算出のための計算式はどれか。

- a. $264,000 \text{ 円} \times 1/2$
- b. $264,000 \text{ 円} \times 1/2 \times 1.15$
- c. $304,000 \text{ 円} \times 1/2$
- d. $304,000 \text{ 円} \times 1/2 \times 1.15$

問7. この旅程において、JAL エコノミークラス（Y2）普通運賃を適用し、復路を Y クラスで予約した場合、復路の運賃算出のための計算式はどれか。

- a. $221,000 \text{ 円} \times 1/2 \times 1.15$
- b. $226,000 \text{ 円} \times 1/2 \times 1.15$
- c. $261,000 \text{ 円} \times 1/2 \times 1.15$
- d. $266,000 \text{ 円} \times 1/2 \times 1.15$

問8. この旅程において、JAL エコノミークラス（Y2）普通運賃を適用し、復路（TAO－SHA－TYO）の SHA－TYO 間を 2015 年 10 月 4 日（日）JL 082 便（12：50 発 16：45 着）の Y クラスにした場合、復路の運賃算出のための計算式はどれか。

- a. $221,000 \text{ 円} \times 1/2 \times 1.15$
- b. $226,000 \text{ 円} \times 1/2 \times 1.15$
- c. $261,000 \text{ 円} \times 1/2 \times 1.15$
- d. $266,000 \text{ 円} \times 1/2 \times 1.15$

第3問 数次往復用一般旅券（以下、旅券という。）に関し、以下の問9.～問11.の各設問について、該当するものをそれぞれの選択肢から一つ選び、以下の問12.について、該当するものを選択肢からすべて選び、解答用紙にマークしなさい。
（緊急に渡航する必要のある者及び戸籍に記載される前の者が旅券の発給申請をする場合を除く。）
（配点 5点×4）

問9. 次の記述のうち、誤っているものはどれか。

- a. 旅券の発給申請をするに当たり、申請者が20回目の誕生日の前日に当該申請に係る書類及び写真を提出するときは、当該申請者は有効期間が10年の旅券を申請することができる。
- b. 20歳未満の未婚者が旅券の発給申請をするに当たり、一般旅券発給申請書の申請者署名欄に当該申請者が署名し、法定代理人署名欄に当該申請者の法定代理人の署名も併せて必要である。
- c. 旅券の発給申請をするに当たり、申請者に代わり出頭する者は、外務省令で定める者で、当該申請の内容を知り、かつ、都道府県知事又は領事官の指示を当該申請者に確実に伝達する能力がある者でなければならない。
- d. 有効期間が満了となった旅券を返納の上、当該旅券の名義人が単独で新たに旅券の発給申請をする場合、戸籍謄本又は戸籍抄本を提出する必要はない。

問10. 次の記述から、正しいものだけをすべて選んでいるものはどれか。

- (ア) 外務大臣又は領事官は、旅券の名義人の生命、身体又は財産の保護のために渡航を中止させる必要があると認められる場合において、旅券を返納させる必要があると認めるときは、当該名義人に対して、期限を付けて、旅券の返納を命ずることができる。
 - (イ) 16歳のときに交付を受けた旅券の名義人は、当該旅券の有効期間が1年未満となったとき、当該旅券を返納の上、有効期間が5年又は10年の旅券の発給申請をすることができる。
 - (ウ) 旅券の記載事項に変更を生じた旅券を返納の上、記載事項変更用の一般旅券発給申請書で旅券の発給申請をできるのは、名義人の氏名又は本籍の都道府県名に変更を生じた場合に限られる。
- a. (ア)(イ) b. (ア)(ウ) c. (イ)(ウ) d. (ア)(イ)(ウ)

問11. 次の記述から、誤っているものだけをすべて選んでいるものはどれか。

- (ア) 旅券の名義人が、有効な旅券を紛失したため所定の届出をした上で旅券の発給申請をした場合、当該紛失した旅券は、新たに旅券が発行されたときに失効する。
- (イ) 旅券の名義人は、残存有効期間が3年となった旅券の査証欄に余白がなくなった場合、当該旅券を返納の上、旅券の発給申請をすることができる。
- (ウ) 旅券の名義人が、旅券を焼失した場合、当該旅券の名義人が病気により出頭が困難であると認められるときは、当該旅券の名義人に代わり焼失の届出を行うことができる者は、配偶者又は2親等内の親族に限られる。

- a. (ア)(イ) b. (ア)(ウ) c. (イ)(ウ) d. (ア)(イ)(ウ)

問12. 旅券の発給申請をするに当たり、申請者が人違いでないことを確認するために、都道府県知事が提示又は提出を求める次の書類のうち、1点のみでよいとされているものをすべて選びなさい。

- a. 宅地建物取引士証
- b. 運転経歴証明書（交付年月日が平成24年4月1日以降のもの）
- c. 国民年金手帳
- d. 小型船舶操縦免許証

第4問 以下の問13.～問14.の各設問について、該当するものをそれぞれの選択肢から一つ選び、以下の問15.～問16.の各設問について、該当するものをそれぞれの選択肢からすべて選び、解答用紙にマークしなさい。(配点 5点×4)

問13. 本邦に在留する外国人(仮上陸の許可又は上陸の特例により上陸の許可を受けている者を除く。)の再入国の許可に関する次の記述から、正しいものだけをすべて選んでいるものはどれか。

- (ア) 特別永住者に関し、再入国の許可の有効期間(有効期間の延長の許可を除く。)は、許可の効力が生ずるとされた日から一定の期間を超えない範囲内で決定されるが、その一定の期間とは6年である。
- (イ) 法務大臣が、本邦に在留する外国人の申請に基づき再入国の許可を与える場合、当該許可はすべて数次再入国の許可が与えられる。
- (ウ) 再入国の許可を申請しようとする外国人は、申請書1通を自ら地方入国管理局に出頭して提出しなければならないが、地方入国管理局長において相当と認める場合には、当該外国人は出頭することを要しない。

- a. (ア)(イ) b. (ア)(ウ) c. (イ)(ウ) d. (ア)(イ)(ウ)

問14. ドイツへのツアーに参加した20歳以上の日本人旅行者の本邦の通関に関する次の記述のうち、誤っているものはどれか。

- a. 香水の免税の範囲は2オンスまでと定められており、免税の範囲を超え香水のみが課税対象になった場合は簡易税率により課税される。
- b. 1個又は1組の課税価格が10万円を超えるものについては、簡易税率は適用されない。
- c. 入国時に所定の申告をした別送品は、税関長がやむを得ない特別の事由があると認める場合を除き、入国後6か月以内に当該別送品を輸入しなければならない。
- d. 別送品について免税枠の範囲内で免税の適用を受けようとする旅行者は、数カ所から別送した場合であっても「携帯品・別送品申告書」を2通作成し、税関に提出しなければならない。

問15. シンガポールへのツアーに参加した20歳以上の日本人旅行者の本邦の通関に関する次の記述のうち、誤っているものをすべて選びなさい。

- a. 化粧品は、標準サイズで1品目につき24個を超えて持ち込むことはできない。
- b. 1本(760ml)10万円のワイン4本のみを輸入する場合、免税の範囲を超える1本に対し簡易税率が適用され、9,000円が課税される。
- c. 酒、たばこ、香水以外のその他の物品については、1品目毎の海外市価の合計額が1万円以下であれば20万円の免税枠に含めることを要しない。

問16. 日本人旅行者が個人的使用のため、帰国時に携帯又は別送して輸入する次の物品のうち、輸入を禁止又は規制されているものをすべて選びなさい。

- a. ハワイから持ち帰ったビーフジャーキー
- b. 台湾から持ち帰ったマンゴーの乾果
- c. タイから持ち帰ったランの切り花

- 第5問 以下の英文及び次の頁の英文は、大観覧車“The Grand Ferris Wheel”の乗車に関する条件書（抜粋）である。これを読み、以下の問17.～問19.の各設問について、該当するものをそれぞれの選択肢から一つ選び、解答用紙にマークしなさい。（配点 5点×3）

The Grand Ferris Wheel tickets are sold per half hour slot throughout the day for half hour rotations with the first ride starting at 10:00 am. The tickets, which include admission to the Grand Ferris Wheel 4D Cinema, may be purchased either individually (standard tickets) or a capsule may be hired exclusively (referred to as a “Private Capsule”). The maximum number of persons allowed per Private Capsule is 25.

Ticket holders for the Grand Ferris Wheel standard tickets must arrive at the entrance gate to join the boarding queue no less than 15 minutes prior to the ride time printed on the ticket.

All guests intending to join a Private Capsule ride are encouraged to check in at the priority desk 45 minutes prior to the booked time. At this time a ticket will be issued to each individual entitling ① them to visit the 4D Cinema. All of these guests must reassemble at the priority desk 15 minutes prior to their ride time. Alternatively, the guests can visit the 4D Cinema at their leisure after their ride. Latecomers will not be admitted to the Grand Ferris Wheel except at the absolute discretion of the Grand Ferris Wheel Company (“GFWC”).

問17. 本文中の下線部①themが指しているものは次のうちどれか。

- a. the Grand Ferris Wheel tickets
- b. ticket holders for the Grand Ferris Wheel standard tickets
- c. the Grand Ferris Wheel standard tickets
- d. all guests intending to join a Private Capsule ride

問18. 次の記述のうち、英文の内容に合致していないものはどれか。

- a. 大観覧車の乗車は午前10時から始まり、チケットには乗車時間が30分単位で指定され記載されている。
- b. 大観覧車の所要時間は1周30分である。
- c. プライベートカプセルの乗客のみが、4Dシネマを鑑賞することができる。
- d. プライベートカプセルの乗車時間を15時に予約した乗客は、14時15分までに優先デスクで受付をし、14時45分までに受け付けした場所に再集合しなければならない。

Payments for all ticket types and bookings for Private Capsules are non-refundable. All tickets and Private Capsule bookings may only be changed at the absolute discretion of GFWC. If any customer wishes to amend the date or time of any booking on the Grand Ferris Wheel following the purchase of ticket(s) the customer should immediately notify GFWC who shall use its reasonable endeavours to accommodate the alternative date and time requested by the customer. An administration fee of £10 per booking will be charged by GFWC to that customer. For the avoidance of doubt, the administration fee will apply to all bookings made on-line on GFWC's website, through the call centre operated by GFWC and through the kiosks situated at the Grand Ferris Wheel. For Private Capsule bookings higher charges will apply.

問19. 次の記述のうち、英文の内容に合致しているものはどれか。

- a. プライベート カプセルのチケットは、GFWC の判断により、払い戻される場合がある。
- b. プライベート カプセルの乗車時間の変更を乗車日当日に GFWC で行い変更が可能となるときは、1 件につき 10 ポンドの変更手数料がかかる。
- c. ウェブサイト上で予約したスタンダードチケットについて、乗車日の変更を GFWC で行い変更が可能となるときは、1 件につき 10 ポンドの変更手数料がかかる。
- d. スタンダードチケットについて、乗車時間の変更を GFWC で行い変更が可能となるときは、乗車日当日であれば変更手数料なしで変更が可能である。

- 第6問 次の英文は、あるクルーズ会社の寄港地における観光に関する条件書（抜粋）である。これを読み、問20.～問24.の各設問について、該当するものをそれぞれの選択肢から一つ選び、解答用紙にマークしなさい。（配点 5点×5）

For Shore Excursions, departure times will be listed on the Shore Excursion Order Form, which you will receive onboard. These have been published according to information from our Excursion Operators, but are ①subject to change ②should the vessel's arrival time at any port be delayed, or the itinerary for any particular excursion be amended. Please note that the departure time shown will be the time the last excursion vehicle leaves the pier or hotel.

Shore Excursions may be purchased in advance of your cruise departure or onboard ship on a come, served basis. Many of the Excursions have limited participation and booking requests will be processed in the order received. When excursions are fully subscribed, additional requests will be placed on a waiting list in the order received.

- 問20. 下線部①subject to changeについて、英文の内容から「変更されることがある」ものとして、最も適切なものは次のうちどれか。
- a. 船内で配布される寄港地における観光の申込書の記載内容
 - b. クルーズ船の到着時刻
 - c. 寄港地における観光の見学箇所
 - d. 寄港地における観光の出発時刻
- 問21. 英文の内容から、下線部①subject to changeの原因となるものだけをすべて選んでいるものはどれか。
- (ア) クルーズ船の寄港地への到着が遅延した場合
 - (イ) 乗客が寄港地における観光の集合時間に遅れた場合
 - (ウ) 寄港地における特定の観光の日程が変更になった場合
- a. (ア)(イ) b. (ア)(ウ) c. (イ)(ウ) d. (ア)(イ)(ウ)

問22. 下線部②should the vessel's arrival time at any port be delayedについて、英文の内容から最も近い意味となるものは次のうちどれか。

- a. although the vessel's arrival time at any port is delayed
- b. however the vessel's arrival time at any port is delayed
- c. otherwise the vessel's arrival time at any port is delayed
- d. provided the vessel's arrival time at any port is delayed

問23. 英文の内容から、本文中の に入る単語は次のうちどれか。

- a. easy
- b. early
- c. first
- d. more

問24. 次の記述から、英文の内容に合致しているものだけをすべて選んでいるものはどれか。

(ア) 寄港地における観光の申込書に記載された出発時刻は、最後の観光用車両が出発する時刻である。

(イ) 寄港地における観光の出発時の集合場所は、常に栈橋である。

(ウ) 寄港地における観光の申込みをした乗客が、満席のため予約ができなかった場合は、受付順でウェイティングリストに載せられる。

- a. (ア) (イ)
- b. (ア) (ウ)
- c. (イ) (ウ)
- d. (ア) (イ) (ウ)

第7問 以下の問25.～問42.の各設問について、該当するものをそれぞれの選択肢から一つ選び、問43.～問44.の各設問について、該当するものをそれぞれの選択肢からすべて選び、解答用紙にマークしなさい。(地名については各国の政府観光局等の公式ホームページ、百科事典等を参考としている。) (配点 2点×20)

問25. 次の空欄に該当するものはどれか。

フランス国境に近いスペイン北部のバスク地方にあり、ビスケー湾に面している海辺の町 は、半円形の美しいコンチャ海岸が有名で、美食の町としても知られ、旧市街には多くのバルが立ち並びミシュランの3つ星レストランもいくつかある。

- a. サン セバステイアン
- b. バレンシア
- c. パンプローナ
- d. マラガ

問26. 次の空欄に該当するものはどれか。

本年は「ひまわり」や「アルルの跳ね橋」などの作品で知られる画家ゴッホの没後125年にあたり、ゴッホ コレクションの双璧ともいえるアムステルダムゴッホ美術館やオッテルローの をはじめオランダ各地で、ゴッホの特別展などが開催されている。

- a. クレラー ミュラー美術館
- b. デン ハーグ市美術館
- c. ボネファンテン博物館
- d. マウリッツハイス美術館

問27. 次の空欄に該当するものはどれか。

ノルウェーの西海岸一帯は複雑に入り組んだ海岸線が続くフィヨルド地帯で、ヨーロッパ本土最長で最深のソグネフィヨルド観光の玄関口 には、ハンザ同盟時代の街並みが残るブリッゲン地区があり、世界文化遺産に登録されている。

- a. オーレスン
- b. スタバングル
- c. ベルゲン
- d. トロンハイム

問28. 次の空欄に該当するものはどれか。

トルコのアナトリア半島北西部にあり、ダーダネルス海峡に面した港町 は、ホメロスの英雄叙事詩イリアスを史実として信じたドイツの考古学者シュリーマンが発見したトロイ遺跡への観光拠点となっている。

- a. アンタルヤ
- b. イズミル
- c. エフェソス
- d. チャナッカレ

問29. 次の空欄に該当するものはどれか。

町を囲む全長約 10 km の城壁や旧市街の建物が赤みがかったことから別名ピンクシティとも呼ばれる は、デリーの南西約 260 km に位置し、アンベール城や風の宮殿などの見どころがある。

- a. アウランガーバード b. アーグラ c. ジャイプル d. ムンバイ

問30. 次の空欄に該当するものはどれか。

ベトナム中部の都市ダナンの南約 30 km にある は、16 世紀以降ヨーロッパ人や中国人、日本人などが来航し、海洋貿易の中継点として栄え、日本人が建てたといわれる来遠橋（日本橋）や華僑の集会場跡の福建会館など、かつての国際交流都市の面影を今に伝える港町である。

- a. ハノイ b. ビガン c. フエ d. ホイアン

問31. 次の空欄に該当するものはどれか。

フィリピン中部にある南北に細長い は、マクタン島とともにホテルや施設の充実したリゾート地として知られ、スペイン統治時代につくられたフィリピン最古のサンペドロ要塞やサントニーニョ教会などの歴史的建造物が残された島である。

- a. セブ島 b. ボホール島 c. ミンダナオ島 d. ルソン島

問32. 次の空欄に該当するものはどれか。

北京の北東約 250 km にある には、清朝歴代皇帝が夏の離宮とした避暑山荘があり、山荘の東と北を取り巻くように並ぶ外八廟はチベット仏教の寺廟群として知られる。

- a. 承德 b. 秦皇島 c. 瀋陽 d. 張家口

問33. 次の空欄に該当するものはどれか。

西太平洋、パラオにはターコイズブルーのサンゴ礁に点在するロックアイランドやジェリーフィッシュレイクなど多くの見どころがあるが、戦後 70 年に当たる本年、天皇皇后両陛下がご訪問され、激戦地であった にて慰霊碑に献花された。

- a. アンガウル島 b. コロール島 c. バベルダオブ島 d. ペリリュー島

問34. 次の空欄に該当するものはどれか。

ハワイ島のハワイ火山国立公園にある標高約 1,250 m の 山は、今も活発に火山活動を続けているが、カルデラを一周する環状道路クレターリムドライブがあり、途中の展望台からは火口を望むことができる。

- a. キラウエア b. ハレアカラ c. マウナケア d. マウナロア

問35. 次の空欄に該当するものはどれか。

ニューヨーク市マンハッタン島ウエストサイドのハドソン川沿いにあるハイラインは、ミッドタウンの西34丁目から [] 地区までの高架鉄道の廃線跡を再利用した全長約2.3 kmの南北に長い空中公園型の遊歩道である。

- a. ソーホー b. ハーレム c. ミートパッキング d. リトル イタリア

問36. 次の空欄に該当するものはどれか。

フロリダ半島の南、カリブ海に位置し、1961年に社会主義宣言をした共和国は、本年7月にアメリカとの国交を回復し、その首都 [] の旧市街とその要塞群は世界文化遺産に登録されている。

- a. キングストン b. ポルトープランス c. サント ドミンゴ d. ハバナ

問37. 次の下線部a.～d.のうち、誤っているものはどれか。

フランス北西部の a. ノルマンディー地方と b. ブルゴーニュ地方には含まれた c. サン マロ 湾の約1 kmの沖合に築かれたモン サン ミッシェル修道院は、カトリック巡礼地のひとつで、パリの d. モンパルナス駅からTGVを利用して訪れることができる。

問38. 次の下線部a.～d.のうち、誤っているものはどれか。

イタリア中部の古都フィレンツェには、町を一望できる a. ミケランジェロ広場や宝飾店が軒を連ねる b. ベッキオ橋、町の中心にある c. サンタ マリア デル フィオーレ (花の大聖堂)、ミケランジェロのダビデ像を収蔵する d. ウフィツィ美術館などの見どころがある。

問39. パリの美術館に関する次の記述のうち、誤っているものはどれか。

- a. 3つの翼にわかれるルーブル美術館は世界最大規模の美術館で、「モナ リザ」や「ミロのビーナス」、「サモトラケのニケ」などの美術品が多数展示されている。
- b. セーヌ川沿いにあるオルセー美術館はかつての駅舎を改装した美術館で、印象派の画家の作品が多数展示されている。
- c. オランジュリー美術館は、印象派の巨匠モネの「睡蓮」の連作が展示されていることで有名である。
- d. モンパルナス タワーにある国立近代美術館には、マティス、ピカソ、カンディンスキーなどの作品が多数展示されている。

- 問40. オーストラリアに関する次の記述から、正しいものだけをすべて選んでいるものはどれか。
- (ア) グレート バリア リーフへの観光拠点であるケアンズでは、観光列車とスカイレールで往復するキュランダ観光が人気である。
 - (イ) アデレードを經由してシドニー ～ パース間を運行するインディアン パシフィック号は、世界最長の直線区間で知られるナラボー平原を走る大陸横断列車である。
 - (ウ) 西オーストラリア州にあるカカドゥ国立公園には、無数の奇石群が砂漠に林立することから「荒野の墓標」と呼ばれるピナクルズがある。
- a. (ア) (イ) b. (ア) (ウ) c. (イ) (ウ) d. (ア) (イ) (ウ)

- 問41. 南米の観光地に関する次の記述から、誤っているものだけをすべて選んでいるものはどれか。
- (ア) 一段の滝としては世界最大の落差で知られるアンヘルの滝（エンジェル フォール）は、広大なギアナ高地のベネズエラ東部にあるカナイマ国立公園のテーブル状の山々のひとつアウヤンテプイから流れ落ちる。
 - (イ) 赤道直下に位置するガラパゴス諸島は、コロンビア領に属し、島固有の動植物が息息する火山島群で、コロンビアの西方約 1,000 km の太平洋上にある。
 - (ウ) ブラジルとボリビアの国境にあるイグアスの滝は、最大落差が約 80 m で、馬蹄形の断崖に幅約 4 km にわたってかかる世界有数の瀑布である。
- a. (ア) (イ) b. (ア) (ウ) c. (イ) (ウ) d. (ア) (イ) (ウ)

- 問42. 仏教の四大聖地に関する次の記述のうち、誤っているものはどれか。
- a. 釈迦生誕の地は、ネパール南部のルンビニにある。
 - b. 釈迦が悟りを開いた成道の地は、インド東部のブッダガヤーにある。
 - c. 釈迦が悟りを開いた後、初めて説教をした地は、バラナシ（ベナレス）の北のサルナートにある。
 - d. 釈迦入滅の地は、バラナシ（ベナレス）の北のカジュラーホにある。

- 問43. 次の国とそのリゾート アイランド及びビーチとの組合せのうち、正しい組合せをすべて選びなさい。
- a. インドネシア - バリ島 - ヌサドゥア ビーチ
 - b. タイ - プーケット島 - パトン ビーチ
 - c. マレーシア - ペナン島 - カロン ビーチ

- 問44. 次のアフリカの国立公園等のうち、ケニアに所在しているものをすべて選びなさい。
- a. アンボセリ国立公園 b. キリマンジャロ国立公園
 - c. クルーガー国立公園 d. マサイ マラ国立保護区

第8問 以下の問45.～問48.の各設問について、該当するものをそれぞれの選択肢から一つ選び、問49.～問52.の各設問について、該当するものをそれぞれの選択肢からすべて選び、解答用紙にマークしなさい。資料編を必要に応じ参照のこと。 (配点 5点×8)

問45. ヨーロッパの鉄道に関する次の記述のうち、誤っているものはどれか。

- a. ITALO は、フィレンツェ～ナポリ間を運行している。
- b. THALYS は、ケルン～ブリュッセル間を運行している。
- c. パリのリヨン駅は、ニースへ行く TGV の始発駅である。
- d. ロンドンのウォーターlooー駅は、EUROSTAR の発着駅である。

問46. 東京発ロサンゼルス行の航空便に関する次の記述のうち、誤っているものはどれか。

- a. アメリカン航空は、ボーイング 777 型機で運航されている。
- b. デルタ航空の便には、ファーストクラスの設定がない。
- c. 全日空とシンガポール航空では、ロサンゼルス空港の到着ターミナルが同じである。
- d. 羽田発の便は、出発日と同日にロサンゼルスに到着する。

問47. 2015年10月7日(水)に東京発のエア カナダを利用した場合、東京～ロサンゼルス間の所要時間で、次のうち正しいものはどれか。(乗り継ぎ時間を含まないものとする。)

- a. 11時間50分
- b. 12時間50分
- c. 14時間
- d. 14時間05分

問48. 東京が2015年10月11日(日)正午(12時)のとき、次の各都市の現地時刻のうち、誤っているものはどれか。

- a. スtockホルム (STO) 10月11日 午前5時
- b. ムンバイ (BOM) 10月11日 午前8時30分
- c. デンバー (DEN) 10月10日 午後10時
- d. ナッソー (NAS) 10月10日 午後11時

問49. 時差に関する次の記述のうち、誤っているものをすべて選びなさい。

- a. ゴールドコースト (OOL) は、夏時間 (DST) を採用している。
- b. ロンドン (LON) とリスボン (LIS) の間には、年間を通じて時差はない。
- c. 西安 (SIA) と台北 (TPE) との時差は1時間である。

問50. 次の国名と都市コードとの組合せのうち、2つの都市コードが国名と合致しているものをすべて選びなさい。

- a. ドイツ — DUS — HAM
- b. インドネシア — DPS — JKT
- c. ブラジル — RIO — SAO

問51. 次の航空会社コードと航空会社名との組合せのうち、誤っているものをすべて選びなさい。

- a. CA — Air China
- b. KA — Korean Air
- c. PA — Philippine Airlines

問52. 2015年10月7日(水)に東京発の航空機でパリを経由して、当日中にそれぞれの目的地に乗り継ぐ場合、Minimum connecting times に適合しているものをすべて選びなさい。
(すべての乗り継ぎ便は、10月7日に運航しているものとする。)

東京～パリ(着ターミナル、着時刻)	最終目的地	乗り継ぎ便名(発ターミナル、発時刻)
a. AF 279(CDG _{2E} 12:50)	マドリード(MAD)	VY8201(CDG ₃ 14:40)
b. NH 215(CDG ₁ 15:45)	マルセイユ(MRS)	AF6042(ORY 19:00)
c. JL 045 (CDG _{2E} 16:10)	ジュネーブ(GVA)	AF1042(CDG _{2F} 18:30)